



## 天星湖中学 2020 届高三第一次在线考试

### 政 治（选修）

考试时间：100 分钟 分值：120 分

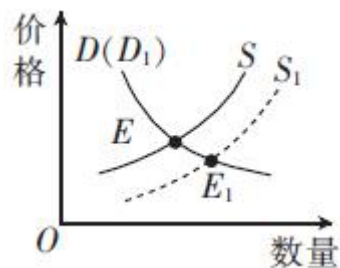
命题人：曹东华

#### 注意事项：

1. 本次测试为线上测试。考试日期：3 月 15 日上午 9:40-11:20；考试过程，请考生务必认真读题、审题，务必独立自主完成，保证测试成绩的真实性。
2. 选择题答案直接在智学网学生端 APP 上点击作答；主观题答案先在纸质答卷上完成，考试结束后，将每题答案拍照并上传至智学网学生端 APP 对应题号，所拍摄的答案图片务必清晰、完整，不得遗漏、重复。上传答案必须在考试时间结束后 15 分钟内完成。

一、单项选择题：本大题共 33 小题，每小题 2 分，共计 66 分。在每题给出的四个选项中，只有一项是符合题意的，请在智学网学生端 APP 对应题号上点击你认为正确的选项。

1. 2019 年 10 月 28 日至 31 日，党的\_\_\_\_\_在北京召开。这是一次具有开创性、里程碑意义的重要会议，是党的历史上首次用一次中央全会专门研究\_\_\_\_\_问题。  
A. 十九届四中全会 制度建设和民主法治  
B. 十八届四中全会 制度建设和民主法治  
C. 十九届四中全会 国家制度和国家治理  
D. 十八届四中全会 国家制度和国家治理
2. 2019 年 8 月 26 日电，国务院印发《中国（江苏）自由贸易试验区总体方案》，标志着中国（江苏）自由贸易试验区正式设立。批准设立江苏自贸试验区涵盖的三个片区是  
A. 南京 苏州 连云港  
B. 南京 南通 徐州  
C. 南京 南通 连云港  
D. 南京 苏州 徐州
3. 2020 年 1 月 10 日，2019 年度国家科学技术奖励大会在北京人民大会堂隆重举行。获得 2019 年度国家最高科学技术奖的两位科学家是  
A. 黄旭华 刘永坦  
B. 黄旭华 曾庆存  
C. 曾庆存 钱七虎  
D. 刘永坦 钱七虎
4. 第二届“一带一路”国际合作高峰论坛于 2019 年 4 月 25 日至 27 日在北京举行。本届会议的主题是  
A. “共建‘一带一路’、开创美好未来”  
B. “合作共赢、创新发展”  
C. “坚持可持续发展、共创繁荣美好世界”  
D. “开放合作、命运与共”
5. 右图中 E 点为 M 商品当前的均衡价格(S 为供给曲线，D 为需求曲线)。若要使得 M 商品的均衡价格由 E 点向 E<sub>1</sub> 点移动，国家可以采取的有效措施是  
①优化市场供给，扩大 M 商品的替代商品的生产和供给  
②放宽市场准入，鼓励各类市场主体进入 M 商品市场  
③实施价格预警，对 M 商品最高价格实行临时管制措施  
④降低 M 商品的进口关税，扩大 M 商品进口  
A. ①②  
B. ①③  
C. ②④  
D. ③④
6. 近年来，低端数码相机的需求萎缩、价格下滑，而高端数码相机的需求愈发旺盛。面对市场行情的新变化，佳能、索尼等相机生产商停止了低端产品的研发，转而投入巨资研发高端产品。这表明  
①生产决定消费的质量和水平  
②消费的升级推动新产品研发  
③价格变动调节生产要素的投入  
④经营战略决定企业的成败  
A. ①②  
B. ②③  
C. ①④  
D. ③④



7. 国家发展改革委、国家能源局共同发布《关于推进电力交易机构规范化建设的通知》，强调非电网企业资本股比应不低于 20%，鼓励按照非电网企业资本占股 50% 左右完善股权结构。这一改革有利于

- ①使国有资产在社会总资产中占优势
- ②稳固国有电力企业的市场主体地位
- ③发挥多元制衡效能，提高经营效益
- ④促进电力资源在更大范围优化配置

A. ①②                      B. ①③                      C. ②④                      D. ③④

8. 2019 年，我国退休人员基本养老金再提高 5% 左右，这是国家自 2005 年以来连续第 15 年调整企业退休人员基本养老金，预计将有 1.18 亿名退休人员受益。这一措施有利于

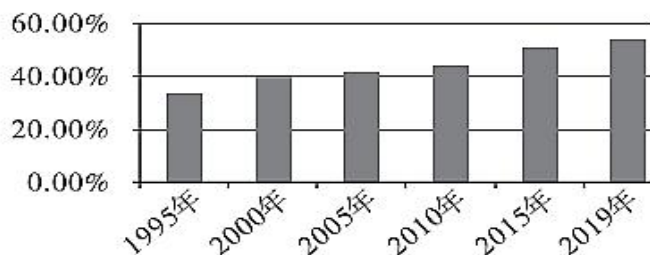
- A. 发挥再分配调节作用促进社会公平
- B. 发挥社会保险规避风险的作用
- C. 提高劳动报酬在初次分配中的比重
- D. 完善按要素分配的体制和机制

9. 某些金融机构出于利益考虑掩盖不良贷款，增加了金融风险。为此我国监管部门加大监督检查和行政处罚力度。2019 年前第三季度，监管部门处置不良贷款余额 1.4 万亿元，同比增加 1765 亿元。银保监会系统共作出行政处罚决定 2912 件，处罚银行保险机构 1575 家次，处罚责任人员 2091 人次，罚没金额 7.75 亿元。这表明

- ①市场的自发调节不能实现资源的优化配置
- ②市场调节自发性会导致金融市场混乱失序
- ③防范和化解金融风险需要运用强制性的行政手段
- ④把资金投向实体经济是避免不良贷款的治本之策

A. ①③                      B. ①④                      C. ②③                      D. ②④

10. 下图反映了 1995 年到 2019 年我国服务业增加值占 GDP 比重的变化情况



注：近年来，我国服务业中的现代服务业（如信息技术产业）的增速高于服务业的整体增速

上述变化表明我国

- ①产业发展不平衡，第一、二产业产值下降
- ②产业结构不断优化，经济发展质量有所提升
- ③虚拟经济挤压实体经济，增强发展协调性任务艰巨
- ④服务业发展势头良好，现代服务业就业前景广阔

A. ①③                      B. ②④                      C. ①②                      D. ③④

11. 2020 年 1 月 6 日，中国人民银行下调金融机构存款准备金率 0.5 个百分点。此次降准释放长期资金约 8000 多亿元。其他条件不变，这一政策带来的影响是

- A. 运用经济手段→降低企业融资成本→扩大企业规模→增加财政收入
- B. 科学宏观调控→增加企业利润→发展实体经济→增强经济实力
- C. 实施货币政策→扩大信贷规模→降低企业融资难度→提升投资信心
- D. 实施财政政策→提高资源利用效率→扩大社会投资→激发市场活力

12. 2019 年 3 月 15 日，十三届全国人大二次会议通过《外商投资法》，该法清晰地体现了“一视同仁、公平竞争”的原则。制定外商投资法的积极意义有

- ①坚持“引进来”和“走出去”并重
- ②营造法治化、国际化、便利化营商环境
- ③拓展对外贸易，建设贸易强国
- ④促进外商投资、保护外商投资合法权益

A. ①②                      B. ①④                      C. ②③                      D. ②④

13. 2020 年新春伊始，一场突如其来的新冠肺炎疫情开始肆虐在中华大地。疫情发生以来，习近平总书记高度重视，亲自指挥、亲自部署，多次主持召开中央政治局常委会会议专题研究疫情防控工作，强调

始终把人民群众生命安全和身体健康放在首位。疫情就是命令，防控就是责任，从中央到地方，快速打响了疫情防控阻击战，齐心协力，共克疫情。这充分表明了

- ①生命安全和身体健康是我国公民基本的政治权利
- ②我国人民民主是最广泛、最真实、最管用的民主
- ③我国坚持人民主权原则，维护全体公民的权益
- ④中国特色社会主义制度具有无可比拟的优越性

A. ①③                      B. ②④                      C. ①②                      D. ③④

14. 某村为了推进村务公开举行了一场别开生面的新闻发布会。台上村两委成员在发布会上公布了该村2020年整体发展规划、村文化品牌建设以及村级财务等内容，并回答了记者的提问。引入新闻媒体参与村务公开能够

- ①促进农村基层民主政治建设，防止腐败滋生
- ②完善基层自治组织治理体系，提升治理能力
- ③拓宽基层民主道，保证村民行使民主决策权
- ④改进基层政权机关工作作风，提高办事效率

A. ①②                      B. ①③                      C. ②③                      D. ③④

15. 在“不忘初心、牢记使命”主题教育中，S市人民政府将企业开办的三个环节——企业登记、公章刻制、税务办理列为“即来即办事项”，企业在符合开办条件的情况下，1个小时内就可以完成全部登记项目。该市做法体现了政府

- ①精简政府职能，打造权威政府                      ②参与企业管理，增强服务意识
- ③规范行政行为，提高行政效能                      ④创新服务方式，助力企业发展

A. ①③                      B. ②④                      C. ①②                      D. ③④

16. 2019年9月23日至25日，全国人大常委会渔业法执法检查组在天津开展为期三天的执法检查。检查组召开了情况汇报会，听取天津市政府及有关部门的全面介绍。这表明，全国人大常委会

- ①是全国人大的常设执行机关                      ②坚持民主集中制的活动原则
- ③行使监督权，保障法律实施                      ④积极履行生态文明建设职能

A. ①③                      B. ①④                      C. ②③                      D. ②④

17. 我国55个少数民族均有本民族的全国人大代表和全国政协委员。155个民族自治地方的人大常委会中，均有实行区域自治民族的公民担任主任或者副主任。民族自治地方政府的主席、州长、县长或旗长，均由实行区域自治民族的公民担任。这表明

- A. 我国的民族区域自治制度有坚实的社会基础
- B. 少数民族地区的各级人大和政府享有自治权
- C. 民族区域自治制度以国家统一为前提和基础
- D. 我国坚持民族平等的基本原则处理民族关系

18. 2019年面对错综复杂的国际形势，我国外交在以习近平同志为核心的党中央领导下，不忘为人民谋幸福的初心，勇担为人类进步作贡献的使命，继续开拓进取，奋发有为，在捍卫多边主义、完善全球治理、推动地区稳定等方面取得了一系列新进展，形成了一大批新成果，既为国家发展建设提供了有力支撑，也为世界和平进步作出了重要贡献。这说明

- ①我国发展全方位外交，积极引领世界多极化发展
- ②维护世界和平、促进共同发展是我国外交政策的首要目标
- ③我国坚持独立自主的和平外交政策，坚定维护国家利益
- ④我国主动担当大国责任，在国际新秩序构建中发挥重要作用

A. ①②                      B. ①③                      C. ②④                      D. ③④

19. 2019年11月28日，大型人文艺术史诗剧目《远古的呼唤》在巴黎库尔贝瓦演艺中心上演。动人悠扬的中国风音乐，戏曲、武术、舞蹈、吟诗等丰富的艺术表现形式，现代化的舞台艺术效果……一个多小时的演出精彩纷呈，带领现场观众充分感受到中国传统文化的厚重魅力。这表明

- ①艺术之美能带来精神愉悦、丰富精神世界  
②中国文化得到了法国民众的普遍认同  
③文化既是民族的、也是世界的  
④传统文化因大众传媒传播而具有价值
- A. ①② B. ①③ C. ②④ D. ③④

20. 2019年10月，中共中央办公厅、国务院办公厅印发的《关于全面深入持久开展民族团结进步创建工作铸牢中华民族共同体意识的意见》强调，搭建促进各民族沟通的文化桥梁，坚持以社会主义先进文化引领促进各民族文化交流发展。开展富有特色的群众性交流活动，打造“中华民族一家亲”系列实践教育活动平台。实施上述举措旨在

- ①加大中华文化的传播力度，提升中华文化的影响力  
②创新文化继承的方式，展示中华文化魅力  
③促进各民族文化交流融合，激发文化创造活力  
④推进民族文化融合发展，增强民族认同感和归属感

- A. ①② B. ①④ C. ②③ D. ③④

21. 2020年为农历庚子鼠年，右图是中国邮政发行的《庚子年》生肖特邮票——“鼠兆丰年”，两只大老鼠与可爱的小老鼠栩栩如生，身边则是代表丰收的花生，同取“鼠到福来”之意，寄托着新春佳节阖家团圆、五谷丰登的家国情怀和美好祝福。这说明



- ①邮票是中华民族文化的集中展示  
②邮票可以表达爱国爱家的美好情感  
③中华优秀传统文化博大精深、亘古不变  
④家国情怀凝聚着中华民族的共同追求

- A. ②④ B. ②③ C. ①③ D. ①④

22. 思想政治课，是用一定政治观点、道德规范对社会成员施加影响，使他们形成符合一定社会所要求的思想品德的社会实践活动。习近平强调，办中国特色社会主义教育，就是要在中小学阶段理直气壮开好思政课。这是因为

- ①思想政治课是涵养中国特色社会主义先进文化的源泉  
②思想政治理论课是落实立德树人根本任务的关键课程  
③提高思想政治素养有助于青少年自觉地融入民族复兴大业  
④政治修养、思想修养、道德修养是文化素养的核心和标志

- A. ①② B. ①④ C. ②③ D. ③④

23. 推动媒体融合发展、建设全媒体成为我们面临的一项紧迫课题。党报、党刊、党台、党网等主流媒体要加强传播手段的建设和创新，发展各种互动式、服务式、体验式新闻信息服务，做大做强主流舆论，巩固全党全国人民团结奋斗的共同思想基础。这需要

- A. 创新传播手段，提升各媒体的传播力、公信力  
B. 发挥大众传媒选择、传递、创造文化的特定功能  
C. 坚持以正确的舆论引导人，防范外来文化影响  
D. 中国共产党始终牢牢掌握意识形态工作领导权

24. 2019年，围绕新中国成立70周年，电影数字节目管理中心利用大数据分析农村观众的电影消费喜好和趋势，做好精准推送。通过电影将党的声音和关怀传递到百姓心间，面向广大农村唱响礼赞新中国、奋进新时代的昂扬旋律。电影数字节目管理中心的上述做法

- ①坚持了以人民为中心的文艺工作导向  
②体现了当代文艺与经济社会同步发展  
③表明文艺对时代发展起积极的推动作用  
④符合文艺工作要用明德引领风尚的要求

- A. ①③ B. ①④ C. ②③ D. ②④

25. 德谟克利特的“影像说”认为，感觉和思想是物体的影像到达感官引起的。这种观点

- A. 坚持了唯物主义的根根本方向  
B. 带有主观唯心主义思想倾向  
C. 正确揭示了物质世界的规律  
D. 承认意识活动的主动创造性



26. 读右图漫画,从哲学角度看,之所以要有容错的氛围,主要是因为

- ①敢于实践才能发现真理
- ②谬误中往往包含着真理
- ③做任何事情,错误总是不可避免的
- ④认识在真理和谬误的矛盾运动中向前发展

- A. ①③
- B. ①④
- C. ②③
- D. ②④



27. 2018年10月24日港珠澳大桥正式通车。大桥跨越伶仃洋,东接香港特别行政区,西接广东省珠海市和澳门特别行政区,首次实现了珠海、澳门与香港的陆路连接,极大地缩短了三地间的距离。可见

- A. 发挥主观能动性是建立联系的前提
- B. 人们可以根据自己的需求建立联系
- C. 建立新联系必须以固有联系为基础
- D. 整体居于主导地位统帅着部分

28. 2019年7月1日起,《上海市生活垃圾管理条例》正式实施。该条例指出,遵循减量化、资源化、无害化的原则,实施生活垃圾分类,促进资源回收利用,加快“两型社会”建设。这一要求主要体现了

- A. 矛盾双方具有相互对立、彼此分离的趋势
- B. 矛盾双方相互依赖,共处于一个统一体中
- C. 矛盾双方相互贯通,在一定条件下相互转化
- D. 矛盾双方在融合中趋向一个无差别的统一体

29. 智能化时代的混合学习方式,一样关注师生创造力的激发,但又打破了传统课堂以教师讲授为中心的线性结构和僵化模式,借助于不断完善的技术平台,采用非线性、超文本、多层次的学习网络,实现了学习效率提升。这体现的哲理是

- A. 辩证的否定是事物联系和发展的环节
- B. 技术创新是社会发展和变革的先导
- C. 具体问题具体分析是事物发展的动力
- D. 辩证否定的实质是事物前进和上升

30. 2020年2月,习近平总书记在北京调研指导新型冠状病毒肺炎疫情防控工作时强调,各级党委和政府要坚决贯彻党中央关于疫情防控的决策部署,坚决贯彻“坚定信心、同舟共济、科学防治、精准施策”的总要求,坚决把疫情扩散蔓延势头遏制住。这体现的哲学道理是

- ①事物的发展是由量变和质变交替决定的
- ②要把发挥主观能动性和尊重规律结合起来
- ③坚定的信心和高昂的斗志是科学防治的前提
- ④要在矛盾普遍性原理指导下分析解决具体矛盾

- A. ①②
- B. ②④
- C. ①③
- D. ③④

31. 2019年11月,经过近10年努力,投入2000多万元,扬州大学张洪程、张瑞宏教授组织多学科专家与农业一线科技人员联合攻关,自主研发出的无人驾驶联合耕播作业机,今年将正式应用于小麦生产,将彻底颠覆农业生产现状。材料体现了

- ①科学实验是一种直接现实性活动
- ②实践具有社会历史性
- ③量变必然引起质变
- ④认识具有反复性、无限性

- A. ①②
- B. ②④
- C. ③④
- D. ①③

32. 为进一步促进民营经济高质量发展,党的十九届四中全会对改善营商环境作出了新的战略部署,国务院颁布了《优化营商环境条例》,为民营经济的发展提供了良好的环境,营造了更加有利的制度体制条件。这说明

- ①社会意识具有相对独立性
- ②生产力的发展要求调整生产关系
- ③变革社会的实践具有能动性的特点
- ④变革上层建筑就可以推动生产力发展

- A. ①②
- B. ①③
- C. ②④
- D. ③④

33. 为防控新型冠状病毒肺炎疫情,全国各地纷纷打响阻击“战疫”。而在此次防控新型冠状病毒肺炎的严峻斗争中,有这么一群人,因为职责,因为担当,义无反顾的成为“逆行者”。他们或为医护人员、或为警察、或为社区工作者,身份各有不同,但目标只有一个。他们用最执着的坚守、最无悔

的信念，演绎着一个又一个感人事迹……“逆行者”们的感人事迹启示我们，实现人生价值应当

①作出正确的价值判断和价值选择                      ②自觉站在最广大人民群众利益的立场上

③重视量的积累，从平凡的小事做起                      ④充分利用社会和他人的各种条件

A. ①②                      B. ①③                      C. ②④                      D. ③④

二、简答题:本大题共 3 小题，每小题 12 分，共计 36 分。请运用所学知识对所提问题进行简明扼要的分析和说明。

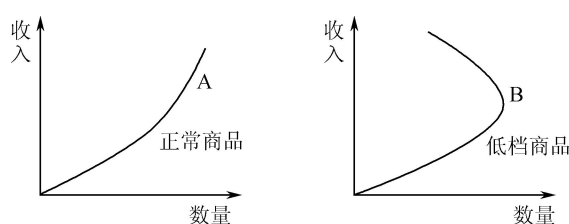
34. 古今中外，教师惩戒学生的行为一直存在，而且发挥着一定的积极作用。但近几十年来，随着社会的发展和观念的变化，有人对教育惩戒产生质疑。由于缺乏有效的制度与法律保障，一些教师变得不敢管、不愿管、不能管学生了，致使学校中的“熊孩子”“小霸王”越来越多。为此，在充分调研的基础上，教育部制定了《中小学教师实施教育惩戒规则(征求意见稿)》，明确教育惩戒是教师履行教育教学职责的必要手段和法定职权。对此，很多教师和家长拍手叫好，也有人对此顾虑重重。

结合上述材料，回答下列问题：

(1) 有人认为，对学生的管教需要向传统教育惩戒回归。请运用文化传承与创新的相关知识，谈谈对此观点的认识。(6 分)

(2) 运用有关哲学知识，分析人们对教育惩戒有不同看法的原因。(6 分)

35. 扩大消费需求对经济增长具有拉动作用。研究表明，消费每增长 1 个百分点，可带动 GDP 增长 1.05 个百分点。收入是消费的前提和基础，在不考虑其他因素的前提下，描述收入增加与商品需求量变动之间关系的曲线叫恩格尔曲线(如下图所示)。



结合材料，回答下列问题：

(1) 请概括图中 A、B 两条曲线反映的经济信息并预测低档商品的市场前景。(6 分)

(2) B 曲线反映的经济现象对我国扩大消费需求，推动经济发展有怎样的启示？(6 分)

36. B【国家和国际组织常识】

有“经济联合国”之称的世界贸易组织近来陷入了历史上最大的危机。由于美国一直对世贸组织上诉机构的制度设计心存不满，认为上诉机构“越权”，限制了美国推行其贸易政策的“自由”，两年多来频频阻挠法官的遴选。至 2019 年 12 月，原本 7 人的世贸组织上诉机构只剩下 1 人，丧失审理案件的能力，导致该机构陷入瘫痪。

2019 年，中国国家主席习近平访问法国期间，在同法国总统马克龙、德国总理默克尔和欧盟委员会主席容克举行的四方会晤中，达成一致共识：中欧支持对世界贸易组织进行必要的改革，更好建设开放型世界经济，维护多边贸易体制，引导经济全球化更加健康发展。

结合材料，回答下列问题：

(1) 从成员性质、职能范围看，世界贸易组织分别属于何种类型国际组织？上诉机构陷入瘫痪对世贸组织有何影响？(6 分)

(2) 简要分析中欧与美国在对待世贸组织态度上的本质差异。(6 分)

三、探究题：本题 18 分。结合背景材料进行探究，能够发现问题、提出问题，并综合运用有关知识分析问题，创造性地提出解决问题的方案、策略等。

37. 志愿服务，是指志愿者、志愿服务组织和其他组织自愿、无偿向社会或者他人提供的公益服务，它是社会文明进步的重要标志。

进入新世纪以来，中国的志愿服务不断发展。在企业，越来越多的员工在企业的支持下，利用自己的专业技能，如 IT、理财、法务、语言、医疗等开展志愿服务。在学校，广大学生志愿者围绕搞好学校及周边社区卫生、教育、科普、文化、体育等工作，开展帮困、助学、植绿护绿、环境治理等活动……广大志愿者弘扬“奉献、友爱、互助、进步”的志愿者精神，以实际行动书写新时代的雷锋故事。

近年来，我国的志愿服务尽管取得了长足进步，但由于历史和现实因素，还存在志愿服务信息不畅、服务能力整体不强、激励保障力度不够等问题。解决好这些问题，既要分清轻重缓急，不能平均用力，又要充分认识有利条件，不能裹足不前。只有这样，才能进一步激发新时代志愿服务的活力和创造力，谱写志愿服务的新篇章。

结合上述材料，探究回答下列问题：

(1) 怎样才能促进新时代志愿服务的健康发展？请从两点论和重点论相统一的角度谈谈你的看法。(6 分)

(2) 有人对企业支持志愿服务活动存在疑惑，认为企业以营利为目的，无偿的志愿服务并不能给企业带来什么。请从经济生活角度为他解答疑惑。(6 分)

(3) 如果你所在学校准备开展以“守望相助，和谐社区”为主题的志愿者服务活动，请你为此写一篇倡议书。(6 分)

要求：① 综合运用政治生活、文化生活知识。

② 紧扣主题，理由充分，观点明确，合乎逻辑。

③ 学科术语使用规范，字数在 250 字左右。