

# 山东省青州实验中学空中课堂第一次考试

## 高三政治 2020.2

(总分: 130 分 考试范围: 经济生活; 选修《国家与国际组织常识》)

一、选择题: 本题共 30 小题, 每小题 2 分, 共 60 分。每小题给出的四个选项中, 只有一项是最符合题目要求的。

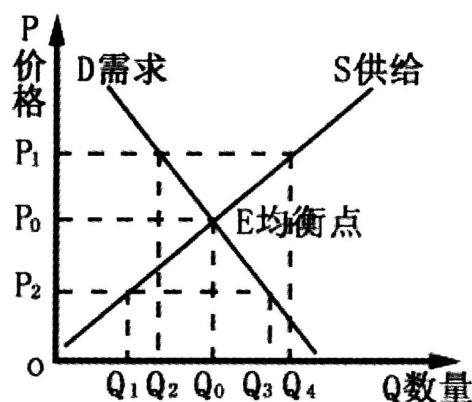
1. 2019 年 8 月我国央行相关负责人表示, 我国未来推出的数字货币将是对流通现金具有一定替代性的全新加密电子货币体系, 可以脱离传统银行账户实现价值转移, 使交易环节对账户依赖程度大为降低。这表明我国研究的数字货币:

- ①将改变货币原有的基本职能
- ②相比于传统电子货币流通更便利
- ③基于国家信用并由其统一发行
- ④发行目的是对我国流通现金的升级和替代

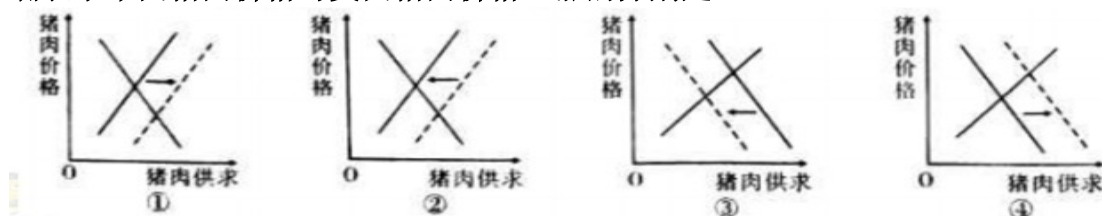
A. ①③      B. ①④      C. ②③      D. ②④

2. 2019 年中央一号文件指出, 要狠抓农业生产保障供给, 加快农业供给侧结构性改革, 带动农民增收和乡村振兴, 完善农业支持保护制度, 按照更好发挥市场机制作用取向, 继续执行并完善小麦最低收购价政策。我国小麦的需求曲线(D)和供给曲线(S)如右图所示, 小麦的支持价格和供给数量应为

- A.  $P_1, Q_2$       B.  $P_2, Q_3$   
C.  $P_1, Q_4$       D.  $P_2, Q_1$



3. 2019 年以来, 我国国内非洲猪瘟疫情严重, 引发猪肉价格上涨, 中国的猪肉供应商们便将目光瞄准了海外猪肉市场, 进而助推美国猪肉价格上涨。美国彭博社 10 月 20 日报道, 美国猪肉价格正在不断上涨, 而推动这一趋势的是中国因非洲猪瘟疫情而造成的猪肉供给短缺。下图能正确表示中国猪肉价格与美国猪肉价格上涨的分别是:



- A. ①②      B. ②④      C. ③④      D. ①③

4. 2019 年 11 月, 青岛市被评为夜间经济十佳城市。青岛“夜经济”持续发力、热度不减, 夜幕下的酒吧、商演、影院持续火热, 各大商圈人头攒动、消费活跃众多小店铺、小商贩亮相“夜经济”大舞台, 既扩大了岛城的就业容量, 又激发了新一轮消费升级。发展“夜经济”

- ①有利于扩大内需、促进消费、稳定就业
- ②有利于优化产业结构, 推动居民消费升级

③可以夯实基础产业，推动经济高质量发展

④有利于发展经济新业态，引导居民理智消费

A. ①②

B. ②③

C. ①④

D. ③④

5. 2019年12月10日—12日召开的中央经济工作会议明确指出，宏观政策要强化逆周期调节，积极的财政政策要提质增效，实施大规模的减税降费。这一政策发挥预期作用的传导路径是

A. 加大扶贫资金监控力度→资金得到有效利用→社会总供给增加→推动经济社会发展

B. 加大小微企业支持力度→提高企业生产能力→发挥财政作用→扩大就业规模

C. 深化推进增值税改革→减轻实体企业的负担→增加企业研发投入→推动高质量发展

D. 调整进口关税税率→减轻进口商品消费负担→满足多层次消费偏好→促进出口增长

6. 改革开放40多年来，安徽凤阳小岗村以处理好农民与土地的关系为主线，不断见证着我国农村关键领域的改革。小岗村是中国农村改革的一面镜子，它站起来、富起来、强起来的历程证明

①必须切实保障农户对土地的所有权

②土地经营制度改革能释放农村发展活力

③乡村振兴是建设现代化经济的坚实基础

④解放和发展生产力必须全面深化改革

A. ②④

B. ①③

C. ①②

D. ③④

7. 2019年11月26日，中共中央、国务院印发《关于保持土地承包关系稳定并长久不变的意见》提出，要稳定土地承包关系，第二轮土地承包到期后再延长三十年，建立健全土地承包权依法自愿有偿转让机制，充分保障农民土地承包权益。此举意在

①稳定土地承包关系，保障农民土地所有权

②顺应农民期待，增强农民发展生产的信心

③延长农业产业链条，增加农民增收的渠道

④推动土地经营权流转，优化土地资源配置

A. ①③

B. ①④

C. ②③

D. ②④

8. “由于国家是从统治阶级对立的需要中产生的，由于它同时又是在这些阶级的冲突中产生的，所以，它照例是最强大的。在经济上占统治地位的阶级的国家，这个阶级借助于国家而在政治上也成为占统治地位的阶级，因而获得了镇压和剥削被压迫阶级的新手段。”恩格斯这一论断告诉我们

①国家是阶级统治的工具，阶级性是国家的本质属性

②国家的性质是由统治阶级的阶级性质决定的

③国家必然包括一定阶级的民主，也包括对其他阶级的专制

④所有国家都是一定阶级对其他阶级的专政

A. ①②③      B. ①②④      C. ①③④      D. ②③④

9. A国议会否决了政府决议，政府首提请国家元首解散议会，宣布提前进行大选，但由于没有任何党派超过半数不能组阁。从立法机关和行政机关的关系看，其政权组织形式（    ）

A. 是民主共和制国家      B. 可能是总统制国家  
C. 是单一制形式国家      D. 一定是议会制国家

10. 2020年夏季，东京将举办第32届奥运会，国际奥委会对此提出要求。对国际奥委会的认识正确的是

①国际奥委会是世界性、专门性国际组织

②只有主权国家才能参与奥委会活动

③按职能范围，国际奥委会属于政府间国际组织

④国际奥委会通过举办奥运会等方式，可以促进各成员之间体育领域的交流、协调与合作，促进世界和平与发展

A. ①③      B. ①④      C. ②④      D. ③④

11. X国政府实施经济振兴方案不到一年，即遭遇了议会对政府的不信任案。于是，该国政府首脑提请国家元首解散议会，重新进行大选，由新组成的议会决定政府的去留。由此可见X国

①实行总统共和制

②国家元首具有象征性地位

③实行责任内阁制

④政府居于国家权力的中心

A. ①②      B. ②③      C. ①④      D. ③④

12. “九二共识”是海峡两岸均坚持一个中国原则的共识。而目前台湾地区领导人蔡英文拒绝“九二共识”，遭到海峡两岸民众的反对，要求在“九二共识”基础上推动两岸关系和平发展，推进祖国和平统一进程。这表明

①坚持“一个中国”原则是发展两岸关系的前提

②享有相对主权的台湾须在中央政权的统一领导下

③任何分裂祖国的活动，都违背了中华民族的根本利益

④世界上只有一个中国，一国两制是我国基本政治制度

A. ①②                      B. ②④                      C. ①③                      D. ③④

13. 当德国第十六届联邦议院选举结果揭晓，安吉拉·默克尔领导的“基民盟”与自己的联盟党——“社民党”占据议会多数席位，在议会选举中获胜。默克尔从德国总统克勒手中接过总理委任状，正式取代已经担任7年德国总理的施罗德。由此可见

①德国是由两个主要资产阶级政党操纵议会选举

②德国的总统是国家元首，但是只拥有虚位

③议会是德国的国家权力中心，拥有立法、组织和监督政府的权力

④德国的政府由议会产生、对议会负责

A. ①②③                      B. ②③④                      C. ①③④                      D. ①②④

14. 2019年8月28日，英国女王批准了首相鲍里斯·约翰逊提出的议会暂时休会的请求。休会期间，议会将无法讨论和通过法案，以此阻止议会通过立法反对政府无协议“脱欧”。可见，在英国

①国王有权召集、停止和解散议会

②议会和内阁掌握国家实权

③首相是国家权力的中心

④议会的权力在不断萎缩

A. ①③                      B. ①④                      C. ②③                      D. ②④

15. 法国之所以被称为半总统半议会制国家，是因为它的

①政权组织形式以总统为国家权力中心，总统掌管最高行政权力

②议会可以通过表决对政府的不信任案来决定政府的去留

③政权组织形式以议会为权力中心，而总统具有任命总理的权力

④总统根据宪法有权任命总理，无权解散议会

A. ②④                      B. ③④                      C. ①②                      D. ①③

16. 某国由总统作为国家元首，但只拥有形式上的权力；政府首脑由在议会中占多数席位的政党或政党联盟的领袖担任。符合这一政体的国家可能是：

A. 英国                      B. 法国                      C. 意大利                      D. 美国

17. 第七十一届世界卫生大会通过了以“3个10亿”健康目标为核心的未来5年战略计划，规划了新的行动方向，旨在使全球享有更好医疗保健和健康福利的人口显著增加。这体现出国际组织具有：

①组织性                      ②自主性                      ③国际性                      ④目的性

A. ①②                      B. ③④                      C. ①③                      D. ②④

18. 2018年5月19日,英国哈里王子迎来大婚之喜,现场观礼的民众达到了10万之众。位高权重但处于政党内斗升级中的首相特蕾莎·梅通过推特向哈里王子送去祝福。从中我们可以看出,在英国:

- ①首相领导内阁,并制定内外政策      ②首相仍然受到种种制约  
③王室仍然是团结英国的重要力量      ④首相行使最高行政权力

A. ①③      B. ②④      C. ①④      D. ②③

19. 西班牙加泰罗尼亚自治区议会通过“独立公投”后,西班牙首相拉霍伊表示,该自治区要公投首先要修宪。而西班牙国王菲利普六世则表示,要在西班牙中央政府统一领导下,确保宪法和法律体系在加泰罗尼亚恢复和维持。这表明西班牙:

- ①实行议会制君主立宪制政体      ②首相有权决定该公投的合法性  
③实行单一制国家结构形式      ④首相由议会产生并对其负责

A. ①②      B. ①③      C. ②④      D. ③④

20. A国总理在实施经济改革过程中,遭遇到议会的不信任案。为此总理提请总统解散议会,进行议会选举,由新组成的议会来决定总理的去留。根据材料可以判断出:

- ①A国的政府对总统负责      ②A国的总统只有虚位,没有实际的权力  
③A国实行民主共和制      ④A国的政府由议会产生,对议会负责

A. ①②③      B. ①②④      C. ①③④      D. ②③④

21. 2018年4月12日,英国首相特蕾莎·梅召集内阁主要成员,就如何应对叙利亚化武事件进行紧急商谈。14日,梅首相绕过议会,直接授权对叙利亚采取军事行动。这说明英国:

- ①首相要对议会负责,受到议会的制约      ②首相领导内阁,对重大问题作出最终裁决  
③首相实际上集党、政、军大权于一身      ④议会的实际权力不断萎缩,并受内阁左右

A. ①②      B. ①③      C. ②③      D. ②④

22. 英国首相特蕾莎·梅有意在2017年3月底前正式与欧盟启动脱欧谈判。但英国高等法院裁定,政府在正式启动“脱欧”程序前需经议会批准。据此,下列判断合理的是:

- ①英国实行三权分立制度  
②英国政府一定不能按照原计划推进脱欧进程  
③首相是英国最有权势的人,但仍要受种种制约  
④英国内阁行使最高行政权力,法院裁定不会影响脱欧进程

A. ①②      B. ③④      C. ①③      D. ②④

23. 某班同学排演以“如何才能在本国政治舞台上发挥更大影响”为主题的政治短剧,下列“政党领导人”的台词反映了该国政治制度特征的有:

- ①美国“民主党”领导人:我们得在与共和党的总统竞选获胜才能获得执政的地位  
②英国“工党”领导人:我们可联合几个党派形成议会的多数派组成多党联合政府  
③法国“共和国前进党”领导人:我们可夺得议会的多数席位后再由议会产生总统  
④美国“共和党”领导人:我们可在国会选举中获得多数席位成为多数党,从而主导国会事务



- A. ①②      B. ①④      C. ②③      D. ③④

24. 受李克强总理之邀, 法兰西共和国总理爱德华·菲利普于 2018 年 6 月 22 日至 25 日对中国进行正式访问, 深入落实法国总统访华时中法两国政府签署的有关协议。由此推测, 法国总统与总理的关系是:

- ①总统和总理都能决定法国的外交政策  
 ②总统居于主导地位, 总理听命于总统  
 ③总理与总统分享外交权, 但总统拥有更大的外交权力  
 ④总统施政重点在国防外交, 总理施政重点在内政经济

- A. ①②      B. ①④      C. ②③      D. ③④

25. 2018 年 4 月 14 日, 联合国安理会未能通过一项旨在对美英法联军对叙利亚实施军事打击的决议草案。表决结果显示, 俄罗斯, 中国和玻利维亚 3 个国家投了赞成票, 8 个国家投了反对票, 4 个国家投了弃权票。这表明, 安理会:

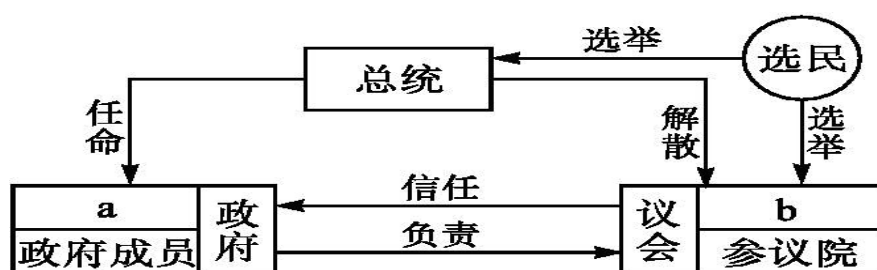
- ①对维护国际和平与安全负主要责任 ②对实质性问题的审议, 常任理事国都必须都投赞成票  
 ③对实质性问题的审议坚持“大国一致”原则 ④是和平解决国际争端的司法机构

- A. ①②      B. ①③      C. ②④      D. ③④

26. 美国政府所谓的打击非法移民“零容忍”政策导致大批儿童与父母强制分离, 引发多方批评抗议。2018 年 6 月 19 日晚, 美国总统特朗普与共和党议员在国会山举行闭门会议, 就相关移民政策进行磋商。会议结束后, 特朗普在国会走廊里遭到民主党议员愤怒的指责和质问。这说明在美国:

- A. 三权分立原则难以在实践中真正贯彻      B. 美国联邦制的最大问题是效率不高  
 C. 美国政党的组织职能已经逐渐削弱      D. 两党的具体政策和主张有明显区别

27. 读下图, 根据所学知识, 判断是哪一个国家的政治制度示意图, 并在图中 a、b 处填入相应内容:



- A. 美国首相 众议院      B. 日本首相 国民议会

- C. 英国总理 众议院      D. 法国总理 国民议会

28. 2018 年 8 月 28 日, 法国环保部长尼古拉·于洛接受法国 France Inter 电台采访时突然宣布辞职, 事先他并未通知法国总统和总理。对此, 总理则表示将向总统提出重组内阁的建议。下列有关法国总统与总理各自职权的认识正确的是:

- ①总统有权任命总理提名的政府成员 ②作为国家元首的总统掌管最高行政权力  
 ③总理听命于总统并直接向总统负责 ④出现紧急状态时总统可以行使非常权力

- A. ①②      B. ①③      C. ②③      D. ③④

29. 2018 年是美国的中期选举年。对于急于翻身的民主党人而言,如果能够通过这次中期选举获得参议院或众议院的多数席位,他们就有能力在国会扼杀共和党提出的法案,并推出本党的立法议案,甚至启动对特朗普总统的弹劾程序,从而对特朗普政府形成极大的牵制。由此可见,在美国:

- ①赢得中期选举的政党成为执政党 ②赢得中期选举的政党成为多数党  
③权力的制约和平衡中渗透着党争 ④国会可以宣布总统的行政令违宪

A. ①③ B. ①④ C. ②③ D. ②④

30. 时任美国总统的奥巴马对枪支暴力这一美国社会痼疾终于开出了数十年来最猛的一剂“药方”,签署了 23 项总统行政命令,要求国会重新立法禁止攻击性武器和大容量弹匣销售等内容。奥巴马推出“控枪令”的同时也坦言,部分提案将受到强烈抵制。这种抵制可能来自:

- ①美国政治三大支柱之一的美国国会的反对  
②各党派支持拥枪权的国会议员的反对  
③财雄势大的拥护持枪自由的利益集团的直接游说  
④联邦制下的美国即便出台了严格控枪的法律,各州也可以不遵守

A. ①③ B. ①④ C. ②④ D. ②③

二、非选择题: 本题共 6 题, 共 70 分。

31. (8 分)

材料 区块链是一种将数据区块以时间顺序相连的方式组合成的、并以密码学方式保证不可篡改和不可伪造的分布式数据库。它通过“全网见证”,所有交易信息会被“如实地记录”,而且这个账本将是唯一的。其特点是去中心化、不可篡改和透明开放,保证了区块链的“诚实”与“透明”。

2019 年 10 月 24 日中共中央政治局就区块链技术的发展现状和趋势进行第十八次集体学习。中共中央总书记习近平在主持学习时指出,要探索“区块链+”在民生领域的运用,积极推动区块链技术在教育、就业、养老、精准脱贫、医疗健康、商品防伪、食品安全、公益、社会救助等领域的应用,为人民群众提供更加智能、更加便捷、更加优质的公共服务。

结合材料,运用《经济生活》的有关知识回答发展区块链技术对提高民生水平的意义?

- ①区块链产业增加了新的工作岗位,能促进就业,增加人民收入,提高消费水平(3 分) ②区块链技术能提供精准信息,助力发展民生事业,进一步改善人民生活水平(1 分) ③区块链如实记录信息,有利于促进生产经营者提高诚信水平,增强消费安全(2 分) ④生产决定消费,区块链技术的发展提供新的消费对象和消费方式,增加有效供给,满足人民日益增长的需求(4 分)

32. (10 分)

材料 2月19日,2019年中央一号文件《中共中央国务院关于坚持农业农村优先发展,做好“三农”工作的若干意见》正式发布。农业农村部部长韩长赋介绍,一号文件对新一轮农村改革作出了部署,总的要以土地制度改革为牵引,推进农村改革。第一,保持**土地承包关系稳定**并长久不变。要扎实完成承包地确权登记颁证,将土地承包经营权证书发到农户手中,给农民一颗定心丸。第二,要继续**深化农村土地制度**三项改革。就是土地征收、集体经营性建设用地入市和宅基地制度改革。农村土地征收和集体经营性建设用地入市,这有利于完善配套制度,加快建立城乡统一的建设用地市场。探索适度放活宅基地和农民房屋使用权的有效途径,**盘活利用闲置宅基地和闲置农房**,**增加农民的财产性收入**。第三**创新经营方式**。要完善承包地“三权分置”的**法律法规和政策体系**,突出抓好培育家庭农场和农民合作社这两类**新型农业经营主体**,培育各类**社会化服务组织**,提高农业的**经营效率 and 水平**。

结合材料和所学经济知识,分析深化农村土地制度改革对推动农村生产力发展的作用。

①**土地制度改革完善了农村土地产权制度,使农村生产关系适应生产力发展的要求,能够解放和发展农村生产力。**②**通过深化农村土地制度三项改革,完善分配制度,发挥了市场的作用,增加农民收入,提高生产积极性。**③**通过完善承包地“三权分置”的法律法规和政策体系,有利于优化资源配置,适度规模经营,提高经营效率和水平。**④**土地制度改革通过创新经营方式,培育新型农业经营主体,推动了农业发展方式转变。**(紫色字部分即为得分点,每点1分,共10分)

33. (9分)

香港、澳门回归祖国以来,“一国两制”实践取得举世公认的成功。然而,近年来,香港社会有些人混淆视听,鼓吹香港有所谓“固有权力”、“自主权力”,为对抗中央制造理论依据。对此,中央有关部门明确指出,鼓吹香港有所谓“固有权力”“自主权力”的观点是非常错误的,这是否认或歪曲中央对香港的管治权。

结合材料,运用《国家和国际组织常识》中有关单一制和维护国家统一的知识,回答下列问题:

(1)鼓吹香港有所谓“固有权力”“自主权力”的观点为什么是非常错误的?(6分) (1)中国是单一制国家,中央享有最高权力,地方政权被置于中央政权的统一领导下,只能在宪法和法律规定的范围内行使职权。(3分)“一国两制”中的“两制”是以“一国”为前提的,中央对香港特别行政区拥有全面管治权;香港特别行政区的高度自治权不是“固有的”,更不是什么“自主权力”,其唯



一来源是中央授权;高度自治不是完全自治,绝不允许曲解“高度自治”,对抗中央。(3分)

(2) 面对“港独”言行,为维护国家统一,请你为中央政府提几条建议。(3分)

(2) 如全面准确贯彻“一国两制”;严格依照宪法和基本法办事,完善与基本法实施相关的制度和机制;坚持反对任何分裂国家的言行;加大对香港的支持,把香港建设好。(任答三点,每点1分,共3分;如有其他答案,也可酌情给分,总分不能超过3分)

34. (10分)

2019年8月22日,美国纽约,联合国安理会在纽约联合国总部举行公开会议,审议中程导弹问题。《中导条约》本月初正式失效,18日,美国便试射了一枚此前受这一条约限制的陆基巡航导弹。应俄罗斯和中国的要求,当地时间22日下午,联合国安理会在“对国际和平与安全构成威胁”的议题下,就此事召开紧急会议,不少安理会成员国都强调,美国此举破坏国际和平与安全,《中导条约》失效将对全球军控努力产生负面影响。

运用国家和国际组织的知识,说明在维护世界和平与安全方面,中国和联合国分别发挥怎样的作用。

①中国本着自身肩负的重大国际责任尊重联合国的权威地位维护宪章的宗旨和原则积极参加各项工作,在人类和平与发展事业中发挥着建设性作用。(3分)

②中国坚持以多边主义实现共同安全。(1分) ③联合国在维护世界和平方面发挥了重要作用。(1分) 联合国作为集体安全机制的核心在保障全球安全的国际合作中发挥着不可替代的作用。(2分) ④联合国是实践多边主义的最佳场所是集体应对各种威胁和挑战的有效平台应该继续成为维护和平的使者。安理会在解决事关世界和平与安全的重大全球和地区问题上具有独特作用。(3分)

35. (12分)

2018年11月6日,美国新一轮中期选举尘埃落定。时隔8年,国会众议院再次转入民主党多数,而共和党只保持了在国会参议院的多数席位。选举意味着1952年以来共和党执政期间,完整控制两院的一致政府状态就此结束。华盛顿政治将步入所谓“分立政府”的新阶段。而对于特朗普总统而言,“跛脚”也就成为他不得不面对的制度性困境。

(1) 请你诊断美国特朗普总统“跛脚”的病因。(6分)

(1) ①美国是两党制国家。(1分) 由于众议院被民主党掌控,执政的共和党只控制了参议院(1分),其决策会受到在野党更多的牵制(1分); ②美国实行三权分立的权力运行机制。(2分) 中期选举造成的“分立政府”状态,使总统与国会参众两院之间常会产生内耗,引发混乱、拖延和推诿。(1分)

(2) 谈谈美国“分立政府”对美国国体和政体的影响。(6分)

(2) 国家性质由统治阶级的性质决定,国体决定政体。(2分) 由于资产阶级的统治地位没有改变,因此,美国“分立政府”不会改变美国的国体和政体,依然是维护资产阶级统治和资本主义制度的工具。(2分) 但在一定程度上会影响政府决策的实施,以及国家政权和社会的稳定。(2分)

36. (13分)

材料 在2019年12月12日举行的大选中,英国首相鲍里斯·约翰逊领导的

保守党大获全胜，赢得议会下院绝大多数席位。保守党占绝对优势的下议院将迅速批准首相与欧盟达成的脱欧协议，英国就可在 2020 年 1 月 31 日离开欧盟。约翰逊将成为带领英国走出政治泥潭的当代摩西。

眼下英国经济发展放缓，已经处在衰退的边缘，无法解决社会公平问题。去年法国政府削减燃油税补贴，引爆出热火朝天的黄马甲骚乱。这次养老金制度改革，导致法国大罢工陷入“拉锯战”。有人认为，在现有体制下，英法无法弥合社会分歧。

结合材料，运用《国家和国际组织常识》的知识，回答下列问题：

(1) 运用“国体与政体”知识，分析英法两国的领导人为什么称呼不同？（5 分）

(1) 国体决定政体，政体体现国体，一定的政体服务于一定的国体；适当的政体能巩固国体。（2 分）受地理环境、历史渊源、文化传统、人口素质、发展程度等因素的影响，相同的国体可以采用不同的政体。（2 分）英法两国国体相同，但可以采用不同的政体来维护。（1 分）

(2) 有人认为，英国和法国都是资产阶级统治的国家，所以两国政体是没有区别的。请你对此观点作出评价。（8 分）

(2) ①英国议会是最高立法机关和最高权力机关；（1 分）法国议会只是立法机关。（1 分）②英国国王是“虚位君主”；（1 分）法国总统则是国家行政权力的中心。（1 分）③英国是两党制；（1 分）法国是多党制。（1 分）

④英国首相由议会中多数党领袖担任，权力很大；（1 分）法国总理由总统任命，权力较小。（1 分）⑤英国的政体是议会制君主立宪制；（1 分）法国的政体是半总统制民主共和制。（1 分）（任答四条即可得 8 分，总赋分不得超过 8 分）