

# 哈三中 2019—2020 学年度上学期 高三寒假第二次文综合考试试题

## 一、选择题（每小题 4 分，共 35 小题，满分 140 分）

2012 年 7 月 27 日~8 月 12 日，第 30 届夏季奥运会将在英国伦敦举行。读图 1，回答第 1~3 题。

1. 在 7、8 月份，伦敦比北京
  - A. 气温高，日差较大
  - B. 风小雾大，降水多
  - C. 正午太阳高度角小
  - D. 日出晚，昼短夜长
2. 英国
  - A. 地处亚欧板块和美洲板块交界处
  - B. 西部海岸线曲折，珊瑚礁发育好
  - C. 地形以高原为主，地势西高东低
  - D. 多数河流短，含沙少，无结冰期
3. 途经该区域的洋流
  - A. 能使北美洲至欧洲的海伦航行速度加快
  - B. 造成欧洲西部地区气温高、湿度降低
  - C. 进入到北冰洋海域，使当地能见度变好
  - D. 在与其他洋流的海域不易形成渔场

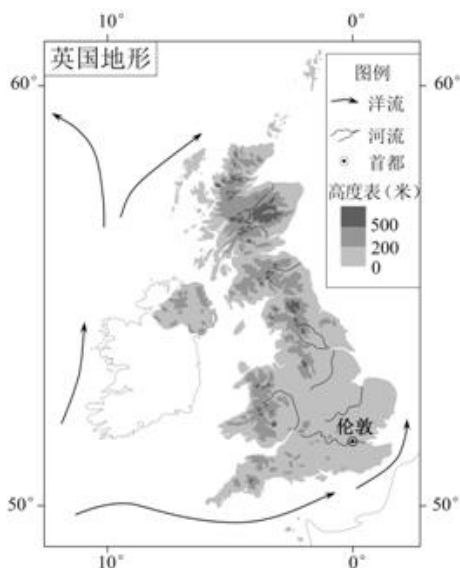


图 1

图 2 为某山地的垂直带谱示意图。读图，回答第 4、5 题。

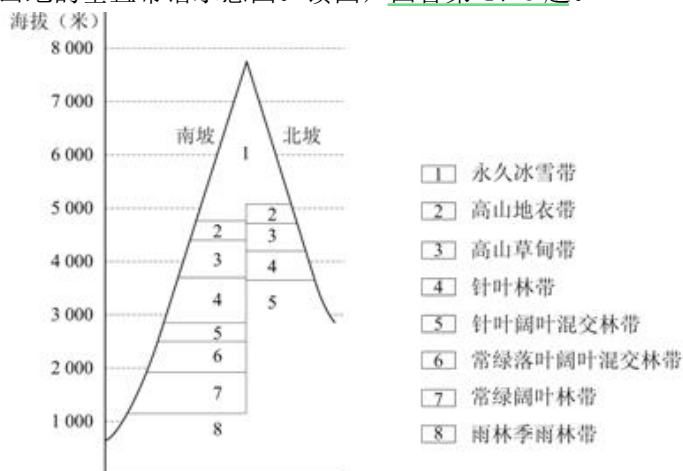


图 2

4. 图中所示山地
  - A. 各自然带的界线随季节变化而移动
  - B. 北坡热量条件差，林带上届比南坡低
  - C. 南坡冰雪带下界因降水量大而较低
  - D. 南北坡山麓水平距离造成基带差异大
5. 该山地位于
  - A. 喜马拉雅山
  - B. 天山山脉
  - C. 祁连山脉
  - D. 昆仑山脉

图3为东非高原基塔莱和多多马的降水资料及两地之间游牧路线示意图。读图，回答第6、7题。

6. 该游牧活动

- A. 需要穿越
- B. 随着雨季南北移动
- C. 向南可至南回归线
- D. 易受飓风灾害侵扰

7. 游牧至甲地的时间最可能是

- A. 1月
- B. 4月
- C. 7月
- D. 10月

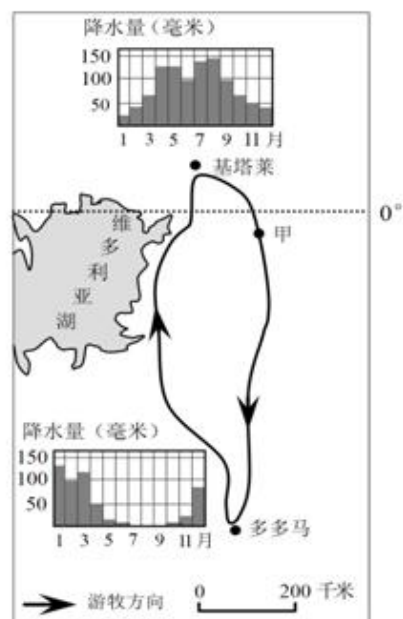


图3

图4是某地区大地震后救灾工作程序示意图。读图，回答第8、9题。

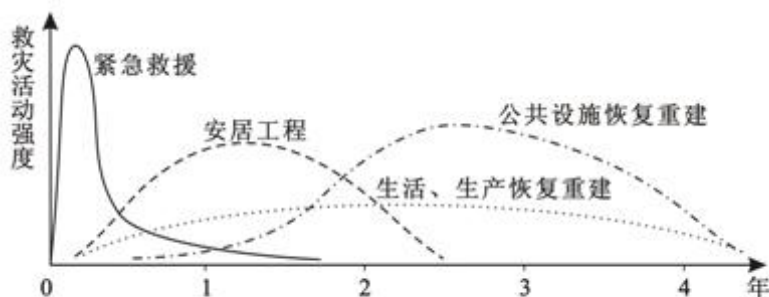


图4

8. 图中所示救灾工作程序还可能适用于

- A. 鼠害
- B. 洪涝
- C. 旱灾
- D. 寒潮

9. 为降低大城市震后救灾活动强度，应采取的主要防灾减灾措施包括

- ①完善城市功能区划
- ②调整产业结构
- ③人口外迁
- ④房屋加固
- ⑤组建志愿者队伍
- ⑥避灾自救技能培训

- A. ①②③④
- B. ②③④⑤
- C. ③④⑤⑥
- D. ①④⑤⑥

图 5 为温带某景区导游图。读图，回答第 10、11 题

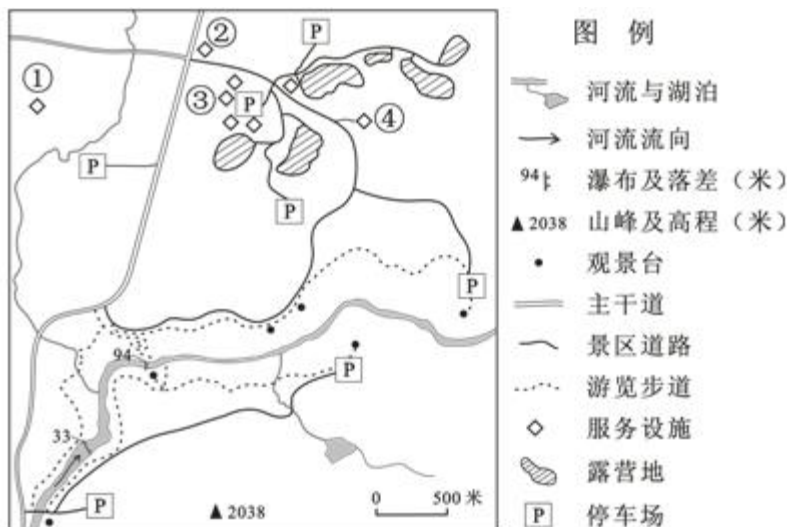


图 5

10. 在图示景区的主要自然景观中，

- A. 峡谷由河流下切塑造而成
- B. 河流补给主要靠冰雪融水
- C. 瀑布的落差受径流量控制
- D. 湖泊是火山口积水形成的

11. 在景区服务设施中，依次布局游客中心、加油站、餐厅、巡防站的合理方案是

- A. ①③②④
- B. ②③①④
- C. ③②④①
- D. ④①③②

12. 2020 年 1 月 31 日晚，英国正式“脱欧”，结束其 47 年的欧盟成员国身份，使英镑兑美元汇率大幅跌落，近日已跌破 1.3，创下近两周新低。若不考虑其他因素，英镑汇率下跌对英国经济的影响是

- ①英国公民赴美旅行、购物成本增加
  - ②英国进口美国技术、设备能力被削弱
  - ③对美出口滑落，外贸形势更趋严重
  - ④以美元为主的外汇储备蒙受巨大损失
- A. ①②      B. ①④      C. ②③      D. ③④

13. 加强供给侧改革，必须需求与供给“两条腿走路”，右图反映的是供给与需求同时变动对均衡点的影响（图中横轴为供求量  $Q$ ，纵轴为价格  $P$ ， $D$  为需求曲线， $S$  为供给曲线，变动的方向为  $D \rightarrow D_1$ ， $S \rightarrow S_1$ ，均衡点由  $E_0$  变为  $E_1$ ）。不考虑其他条件，与  $E_0 \rightarrow E_1$  反映的供求变化状况一致的是

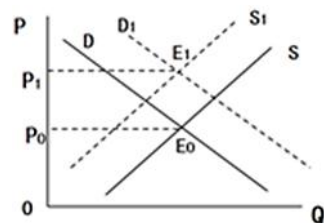


图 6

- A. 国际原油价格下降，导致汽油价格和市场供求数量的变化
- B. 居民可支配收入增加，土地供应减少，引起商品房供求变动
- C. 中国居民收入增加和美元升值，引起中国居民从美国购物量波动
- D. 银行利率下调，导致的棉花价格和种植量的变动

14. 所谓“挤进效应”是指政府采用扩张性财政政策时，能够诱导民间消费和投资的增加，从而带动产出总量或就业总量增加的效应。2019 年，我国财政工作主动适应经济发展新常态，继续实施降税减费的积极的财政政策并适当加大力度。下列能够产生“挤进效应”的举措有

- ①实施积极的财政政策→扩大国债发行规模→投资增加→刺激经济增长  
 ②下调增值税税率→增加财政收入→刺激总需求增长→促进经济增长  
 ③加大公共财政支出→生产规模扩大→扩大内需→推动经济增长  
 ④降低人民币存贷款基准利率→增加市场货币供应量→消费扩大→经济发展
- A. ①③                      B. ②④                      C. ①②                      D. ③④

15. 据海关统计显示,2019年民营企业进出口13.48万亿元,增长11.4%,占我国外贸总值的42.7%,首次成为我国外贸第一大主体。发展壮大民营经济,国家需要

- ①全面清理和废止阻碍民营经济参与公平竞争的政策法规  
 ②以法律的形式确定民营经济是社会主义市场经济的主体  
 ③为民营经济提供充足贷款,解决民营企业融资难的问题  
 ④采取更有针对性的减税降费政策以减轻民营企业的负担
- A. ①③                      B. ②③                      C. ①④                      D. ②④

16. 近日,中共中央印发了《关于加强党的领导、为打赢疫情防控阻击战提供坚强政治保证的通知》,要求各级党组织和广大党员、干部要在打赢疫情防控阻击战中发挥积极作用。打赢疫情防控阻击战要坚持党的领导,这要求

- ①党要加强思想、作风建设,加强对防疫工作的组织领导  
 ②党要依法履职,积极推动我国卫生事业高质量发展  
 ③党要发挥基层党组织战斗堡垒作用,确保重大决策部署贯彻落实  
 ④党员干部发挥模范带头作用,走进群众、服务群众
- A. ①②                      B. ①③                      C. ②④                      D. ③④

17. 从严防输入性病例到阻止内源性扩散,哈尔滨市把强化城市社区排查和防护工作,作为重中之重,构筑起一道抵御疫情的社区防线,全市上下正在打响一场“社区保卫战”。打响“社区保卫战”

- ①彰显了社区组织的自治功能                      ②展现了社区基层政权机关的治理能力  
 ③维护了广大居民的合法权益                      ④发挥了社区在基层治理中的主体地位
- A. ①②                      B. ①③                      C. ②④                      D. ③④

18. 武汉肺炎疫情爆发以来,社会各界纷纷对武汉施以援手。然而,一边是涌入的社会捐赠,一边是急缺的医疗防护物资,武汉市政府及红十字会混乱的管理和分配方式让不少网友愤慨不已,造成了恶劣的社会影响。要避免类似问题的发生,需要

- ①新闻媒体关注政府工作,并依法曝光不正当行为  
 ②政府全面公开一切信息,保证人民群众的知情权  
 ③公民行使质询权和监督权,及时反映意见和要求  
 ④人大坚持民主集中制原则,监督政府的各项工作
- A. ①③                      B. ①④                      C. ②③                      D. ②④

19. 2月2日,武汉火神山医院正式交付使用。火神山医院的命名并非地区原名,而是近日被建设者们赋予特殊意义的新名字:楚文化传说中的湖北乃古楚之地,而楚国人被认为是火神祝融的后代,祝融(帝喾)则是黄帝的子孙。而荼毒人类肺部的新型冠状病毒惧怕高温,火神正好能驱瘟神,于是“火神山”之名应运而生。火神山医院的命名

- ①说明了文化创新必须立足于传统文化
- ②体现了对传统文化的继承，古为今用
- ③体现了中国传统文化具有相对稳定性
- ④见证了中华文化的源远流长博大精深

A. ①③      B. ①④      C. ②③      D. ②④

20. 2月10日,《感动中国2019年度人物颁奖盛典》将在央视一套播出。《感动中国》通过多种投票方式选取年度具有震撼人心、令人感动的人物和团队,自2003年首播以来,得到社会各界的广泛关注和认可,产生了重要影响。以下影响传导顺序合理的是

- ①营造积极向上向善的浓厚文化氛围
- ②增强人们的辨别和抵制落后文化的能力
- ③提高人们的道德实践能力尤其是自觉实践能力
- ④为众多网民提供了强大的榜样力量和精神动力

A. ①→④→③      B. ①→④→②      C. ④→①→②      D. ③→①→④

21. 沙漠并不是一无是处,治理沙漠需要充分挖掘其独特的比较优势。近年来,内蒙古始终探索深度治沙模式、大力发展沙产业,不仅加快了农村牧区剩余劳动力的转移,还带动了加工、贮藏、包装、运输等相关产业的发展,初步形成了种、养、加、产、供、销为一体的产业链,增强了防治的持续发展能力。内蒙古沙漠治理的成功经验在于

- ①把握了事物联系的多样性,正确处理了整体和部分的关系
- ②坚持了具体问题具体分析,突破了现存客观条件的制约
- ③既认识了事物的有利条件,又重视了事物的不利条件
- ④做到了从实际出发,坚持发挥主观能动性和尊重客观规律相结合

A. ①②      B. ①④      C. ②③      D. ③④

22. “利民之事,丝发必兴;厉民之事,毫末必去”(清·万斯大《周官辨非天官》)。

下列与该名言蕴含的哲理相符的是

- ①勿以善小而不为,勿以恶小而为之
- ②沉舟侧畔千帆过,病树前头万木春
- ③先天下之忧而忧,后天下之乐而乐
- ④竹外桃花三两枝,春江水暖鸭先知

A. ①③      B. ①④      C. ②③      D. ②④

23. 右边漫画蕴含的哲理主要是

- A. 价值观影响人们对事物的认识评价
- B. 被认可是实现人生价值的根本途径
- C. 要在个人与社会的统一中实现价值
- D. 人要具有满足主体需要的积极功能



桶说: 里面不装点东西就没有人提我!

24. 周初建立的分封制度“政权并不集中在最高的王的手上。这是个一层层重叠着的权力金字塔,每个贵族都分享着一部分权力。王奈何不得侯,侯也奈何不得公,一直到士,都是如此”。这最能表明分封制

- A. 家国同构的政治结构形式
- B. 森严的等级制度
- C. 权力分散未形成中央集权
- D. 分权与制衡的原则

25. 孔子反对贫富过于悬殊, 指出“不患寡而患不均, 不患贫而患不安”; 孟子也抨击过“庖有肥肉, 厩有肥马, 民有饥色, 野有饿殍, 此率兽食人也”的社会现象。这反映了先秦儒家

- A. 对专制体制的不满
- B. 对社会正义的诉求
- C. 过于理想化的追求
- D. 不符合统治者需求

26. 唐朝沿用隋制, 国家每一政令的下达, 都经由中书出令、门下审议、尚书执行的程序。后来“中书门下两省, 或论难往来, 各逞意气。太宗深察其弊, 乃令三省长官合署办公, 是谓政事堂”。这说明政事堂的设立

- A. 缓解了皇权与相权的矛盾
- B. 扩大了三省长官的权力
- C. 有助于提高中央行政效率
- D. 旨在终结三省六部制度

27. 史载, 自 15 世纪末 16 世纪初以来, 以苏州府、松江府、嘉兴府、湖州府为中心的三角洲地区, 原先的农家副业逐渐取代农家正业, 出现了棉作压倒稻作, 蚕桑压倒稻作的新趋势。这一变化

- A. 是资本主义萌芽发展的结果
- B. 为该地区工商业市镇的发展提供了推动力
- C. 加速了江南自然经济的解体
- D. 促使白银逐渐成为该地区普遍流通的货币

28. 鸦片战争后, 两广总督耆英说, “良民与莠民亦成水火……民已焦头烂额, 官尤诩诩自得, 扬言……民情柔懦, 安得闹事”, 更“欺压良善, 自命为能员”, “此实不能御寇之由”。耆英认为鸦片战争失败的主要原因是

- A. 贫富不均
- B. 莠民作乱
- C. 吏治败坏
- D. 民性懦弱

29. 据资料记载, 美国大萧条发生后, 无锡以出口为主的缫丝工业遭受严重打击, 其他行业也遇到前所未有的困难。但到民国二十五年, 无锡工业资本总额就达 3400.9 万元, 增长 74.3%, 其中投资缫丝工业的薛氏集团成功登上“丝茧大王”的宝座。该时段无锡工商业的发达主要得益于

- A. 清政府放宽对设厂的限制
- B. 欧洲发生第一次世界大战
- C. 国民政府“经济建设运动”
- D. 抗战中英美对华经济援助

30. 1930 年中共认识到封建势力是帝国主义的工具, 消灭封建势力的土地革命是反对帝国主义的必经之路; 1940 年改变了反对一切帝国主义的革命方针, 提出凡是反对法西斯、援助中国的国家都不是帝国主义。中共这一转变的主旨是

- A. 建立抗日民族统一战线
- B. 改变反帝反封建的革命立场
- C. 加入世界反法西斯同盟
- D. 为抗日战争赢得更好的环境

31. 家庭联产承包责任制下, 一家人种几亩田地的土地经营模式, 造成了人力资源的极大浪费。在国外一个人就能做好的事情, 就能种的田地, 到了中国却需要几个人, 甚至几十个人来完成。这样的低效率自然造成了农民的贫苦。这反映出家庭联产承包责任制

- A. 符合自给自足的农业传统
- B. 造成土地所有权的分散
- C. 亟需赋予新的时代内涵
- D. 忽略了人口众多的国情

32. 苏格拉底经常在公共场合与人交谈, 通过谈话揭露对方的无知, 以此来刺激人的求知欲, 因为他的论辩方式, 苏格拉底也被看作是智者学派, 其实二者有本质区别。与智者学派相比, 苏格拉底

- A. 适应现实需要追求功利
- B. 研究重心转向人和社会
- C. 强调人的价值和决定作用
- D. 追求知识及人的自我约束

33. “十八世纪的启蒙思想家一致认为，他们的主要使命在于使人们不只是获取和扩展具体有用的知识，而是捍卫、强化和巩固新的思维方式。”这说明，启蒙运动

- A. 消除了思想界的分歧
- B. 注重发动民众的力量
- C. 旨在推动知识的普及
- D. 具有鲜明的理性精神

34. 西方学者认为，宪法作为最高权威高于一切，是自然法和全民意志的体现。对此，有评论指出，事实上，资产阶级“把自己的利益说成是社会全体成员的共同利益”。该评论揭示

- A. 西方的任何社会力量都不能逾越宪法
- B. 资产阶级意志代表全体民众的共同愿望
- C. 西方宪政以民主的外衣行资产阶级专政
- D. 普通民众并不能从宪法中享有民主权利

35. 从1979年10月到1988年底，英国共有27家国有企业全部或部分实行私有化，政府由此取得近200亿英镑的股票变卖收入；私有化并未消除垄断，反而推动国家垄断向私人垄断的转换。这表明英国政府

- A. 彻底抛弃凯恩斯主义
- B. 力求充分激发市场经济活力
- C. 信奉平等的价值理念
- D. 加强对劳资冲突风险的管控

二、非选择题（包括必考题和选考题两部分。第36题～第42题为必考题，每个试题考生都必须作答。第43题～第47题为选考题，考生根据要求作答。）

（一）必考题（7道题，共135分）

36. （24分）根据材料和图7，结合所学知识，回答下列问题。

很多中药材生长习性独特，有的喜阴，有的喜光，有的喜湿，有的耐寒，有的耐旱，有的耐盐碱……。甘肃地理位置独特，是全国中药材资源大省，素有“天然药库”、“千年药乡”之称。近年来，依托中药材，甘肃制药、药膳食品、日化用品等工业蓬勃发展。

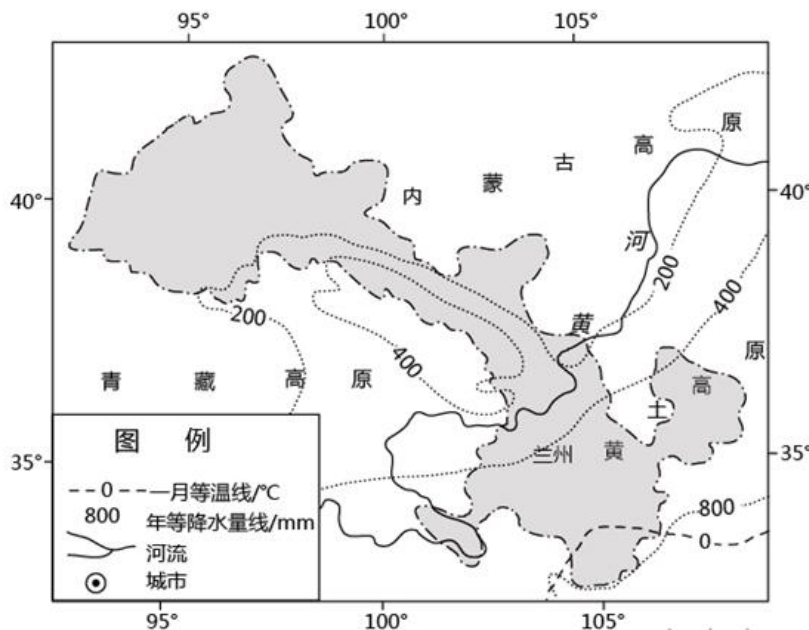


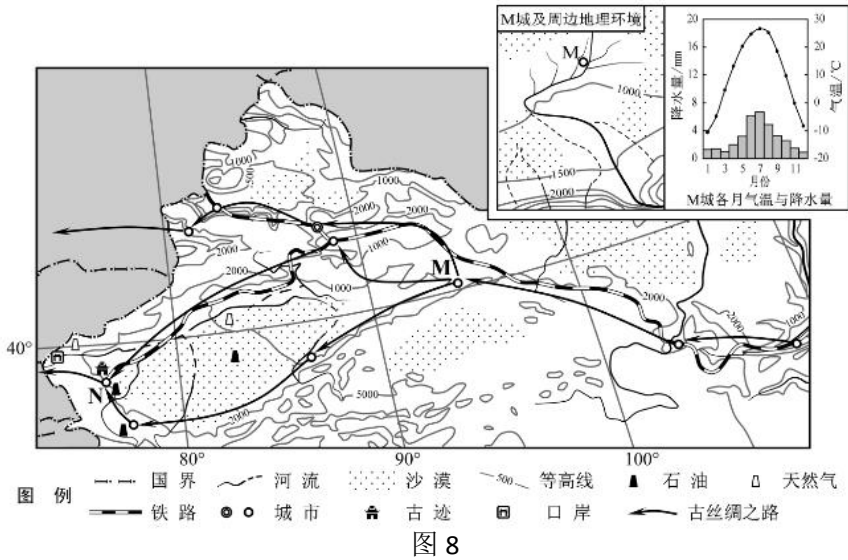
图7

（1）分析甘肃省种植中药材的区位优势。（12分）

（2）说明依托中药材发展工业对甘肃省的积极影响。（12分）

37. (22 分) 下列是某中学为“重走古丝绸之路”夏令营活动所搜集的材料。据此回答问题。

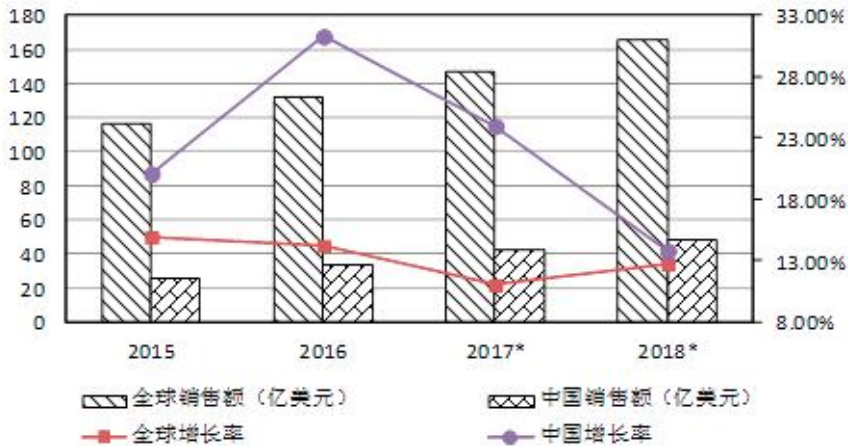
- 材料一** 下图示意考察区域的地理环境
- 材料二** N 城均为历史文化名城。2010 年 5 月经国务院批准 N 城设立经济特区，范围包括 N 城及其西部口岸。



- (1) 简析从“丝绸之路”到“亚欧陆桥”交通运输方式转变的原因。(10 分)
- (2) 分析 N 城设立经济特区有利的社会经济原因。(12 分)

38. 阅读材料，回答问题。

- 材料一** 下图是 2015 - 2018 年全球和中国工业机器人销售额及增长趋势情况
- 2015-2018 年全球和中国工业机器人销售额及增长趋势**



注：中国机器人产业联盟统计显示，2016 年在国内工业机器人销售占比上，国内机器人企业份额 19%，同比上升 4 个百分点，2018 年国产销售占比 13%。

**材料二** 2019年，工业和信息化部重点从六个方面推动制造业高质量发展：一是建立健全制造业高质量发展体系；二是抓好国家制造业创新中心建设，关键领域核心技术攻关，工业强基等专项工程的实施；三是坚持不懈去产能，促进新兴产业发展，培育先进制造业产业集群；四是推动落实金融支持小微企业发展的政策措施；五是深化“放管服”改革，降低企业成本负担，稳定国内有效需求；六是落实汽车船舶等行业的开放政策，促进装备制造业和国际产能合作。

(1) 概括材料一反映的经济信息。(6分)

(2) 结合材料二和所学经济知识，分析我国推动制造业高质量发展对建设现代化经济体系的意义。(10分)

39. 阅读材料，回答问题。

2020年1月15日，中美第一阶段经贸协议签署仪式在美国白宫东厅举行。中共中央政治局委员、国务院副总理、中美全面经济对话中方牵头人刘鹤与美国总统特朗普共同签署协议文本并致辞。由此，全球最大的两个经济体持续近两年的贸易战，迎来了阶段性成果。根据协议，中美双方将在银行、证券、保险、电子支付等领域提供公平、有效、非歧视的市场准入待遇。《华尔街日报》报道称，该协议给美国的银行和金融公司带来新的希望，同时也“为美国商品在中国市场获得更大发展打开了大门”。中方刘鹤也表示，中国经济正在由高速增长转向高质量发展阶段，巨大规模的国内市场正在形成，协议签署“恰逢其时”。

中国国家主席习近平在致特朗普总统的口信中指出，这份协议的签署“有利于中国，有利于美国，有利于全世界”。在全球经济持续低迷背景下，中美签署第一阶段经贸协议为中美两国和世界经济注入“稳定剂”，成为两国重塑经贸关系的一个起点。

请结合所学政治生活知识，分析中美第一阶段经贸协议签署的意义。(10分)

40. 阅读材料，回答问题。

**材料一** 当下，新型冠状病毒感染的肺炎疫情非常受关注，各种各样的消息铺天盖地，相关部门积极发布各种信息的同时，也有不少谣言在网上流传，让众多网友无所适从，甚至有不少人被谣言欺骗，造成了恶劣影响。为此，各大主流媒体网站都设置了“辟谣专栏”，联合相关部门为广大网民提供获得准确信息的渠道；执法部门也及时查处了一批制造并传播谣言的始作俑者。新华社发文指出：“不造谣、不信谣、不传谣，共同营造科学防治、理性应对的社会氛围，就是对疫情防控的最大支持。”

**材料二** 面对来势汹汹的肺炎疫情，许多身披白色“铠甲”的医务工作者主动请缨，义无反顾选择逆向而行。

逆向而行是无私奉献的情怀。84岁的中国工程院院士钟南山在建议公众“没有特殊的情况，不要去武汉”的同时，义无反顾地赶往防疫最前线，不计报酬、不畏生死、不讲条件。在他和无数医护工作者身上体现出来的对专业执着和忘我的献身精神，给社会和大众带来了战胜疾病的信心 and 安全感。

逆向而行是职业精神的呼唤。“以我所学，尽我全力”，他们无惧被病毒感染的风险，从始至终冲锋奋战在疫情防控第一线，用自己的专业知识、职业素养为我们筑起了一道坚不可摧的生命防线。

逆向而行是大爱无疆的诠释。那些义无反顾选择逆向而行的医务人员，他们其实也是普通人，但是他们选择了“舍小家、为大家”，始终选择冲在前方，用实际行动救死扶伤，用坚定选择诠释了大爱无疆。

一个有希望的民族不能没有英雄，一个有前途的国家不能没有先锋。这些逆向而行的人，正是我们这个时代的英雄！

(1) 结合材料，运用《发展中国特色社会主义文化》的知识，谈谈我们应如何形成多方合力治理谣言。(10分)

(2) 结合材料，运用生活与哲学的知识，谈谈这些“逆向而行的人”对我们实现人生价值的启示。(12分)

(3) 在此次疫情中，社会各界都动员起来，众志成城抗疫情。作为高中生，我们可以在抗击疫情工作中发挥怎样的作用？请你结合自身实际提出两条合理建议(4分)

41. (25分) 阅读材料，完成下列要求

**材料一** 在谈论古代中国人与自然的和谐关系时，我们可以追溯到远古的图腾崇拜，古人对于作为图腾祖先的动植物，集团中的成员都加以崇敬，不敢随意损害毁伤或生杀，这种对自然的畏惧心理发挥了对自然的保护作用。在人类进入农耕文化后，二十四节气告诉我们，古人对自然的态是认识自然，然后去顺应自然，诸如“寒露到霜降，种麦日夜忙”，“谷雨前，好种棉”；“清明后，谷雨前，高粱苗儿要露尖”。……庄子说：“天地与我并生，而万物与我为一”；荀子也曾说：“天行有常，不为尧存，不为桀亡。应之以治则吉，应之以乱则凶。”这样的思想和境界，散见于各类古典文献及道家、儒家等著述之中，构成中国传统文化的重要组成部分。

——摘编自王震中《中国古代人与自然的和谐思想渊源及其对自然的保护》

**材料二** 19世纪以来，针对日益严重的环境污染问题，西方国家陆续颁布了一些防治大气、水、农药等污染的法规。……20世纪50年代后，西方国家相继成立环境保护专门机构，并通过征收排污费解决环境污染的理费用问题。但这类被动的“尾部治理”措施收效亦不甚显著……1970年4月由美国一些环境保护工作者和社会名流发起的一场声势空前的“地球日”运动是人类历史上第一次规模宏大的群众性环保运动；同时，70—80年代在环境科学的研究过程中，西方国家从理论上或实践上都摸清了主要污染物质的污染规律。……80年代西方国家基本上控制了污染，普遍较好地解决了国内的环境问题。

——梅雪芹《工业革命以来西方主要国家环境污染与治理的历史考察》

(1) 根据材料一并结合所学知识，概括中国古代人与自然的和谐思想产生的渊源和特点。(12分)

(2) 根据材料二并结合所学知识，指出19世纪以来推动西方国家环境问题得以较好解决的因素，综合上述材料，指出我们从中应得到的启示。(13分)

42. （12 分）阅读材料，完成下列要求。

**材料** 现代中国出国留学情况一览表

时期	目的地（国家和地区）	留学人数	费用来源
新中国成立—“文革”前	苏联、东欧等 29 个国家和地区	约 10000 余人	公费为主
“文化大革命”时期	49 个国家和地区	约 1600 余人	公费为主
改革开放以来	103 个国家和地区	约 300 多万人	自费为主

——据《略论近现代中国留学史的分期和中国留学生的时代使命》

表格能够反映现代中国留学变化的多个特点。指出其中一个特点并说明其历史原因。

（12 分）

（二）选考题：（5 题，共 25 分。请考生从给出的 2 道地理题、3 道历史题中每科任选一题作答，并用 2B 铅笔在答题卡上把所选题目的题号涂黑。注意所做题号必须与所涂题目的题号一致，在答题卡区域指定位置答题。如果多做，则每学科按所做的第一题记分。）

43. （10 分）环境保护

阅读图文资料，完成下列要求。

近百年来，上海市饮用水主要水源地发生了很大变化；1910 年为苏州河，1928 年改至黄浦江中、下游，1978 年改至黄浦江中、上游，到 2010 年改至长江青草沙（见图 9）。



图 9

（1）分析上海市饮用水主要水源地变化的原因。（4 分）

（2）提出保护城市水源地应采取的措施。（6 分）

44. (10 分) 旅游地理

阅读图文资料，完成下列要求。

下图所示区域中的世界文化遗产，始建于公元 366 年，以其现存规模大，保存完好的壁画和塑像闻名于世。近年来，游客数量不断增加，对该文化遗产构成较大威胁。

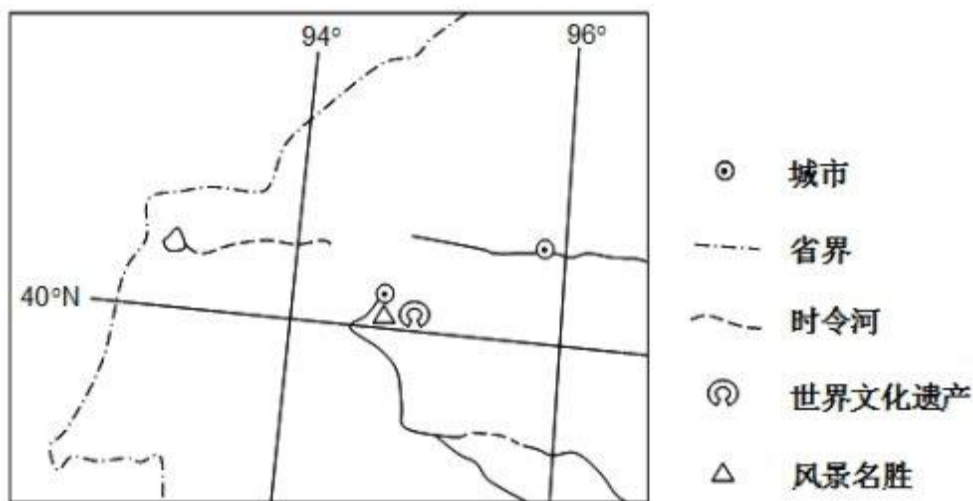


图 10

(1) 简述图示区域文化遗产保护较完好的自然原因。(4 分)

(2) 说明为保护该文化遗产应采取的措施。(6 分)

45. (15 分) (历史一选修 1: 历史上重大改革回眸)

维新志士们力图通过变法改革现状、挽救民族危亡，其政治实践留下了深刻的历史教训。阅读下列材料。

**材料一** 在这百天之内，康有为及其同志推行了不少的新政。其中最要紧的有二件事。第一，以后政府的考试不用八股文，都用政治、经济的策论。换句话说，以后读书人要做官不能靠虚文，必须靠实学。第二，调整行政机构。康有为裁汰了许多无用的衙门和官职……他们（指读书人）费了多少的心血，想从之乎者也里面，升官发财。一旦废八股，他们绝望了。难怪他们要骂康有为洋奴汉奸。至于被裁的官员更不要说，无不切齿痛恨。

——蒋廷黻《中国近代史》

**材料二** 康有为是一个思想家，而不是一个实践的政治家。他对现实政治没有太多的认识，也没有运用过政治权势。他急于求成，毫不考虑变法对其他人的影响。他意识不到，激进的变法实际上是对整个儒家统治的国家和社会的一场战争，包括危及满族八旗特权在内的改革，只会激起来自多方面的强烈反对。除了皇帝外所有的改革者都是汉人的事实，在满族人中间引起恐慌。越来越多的汉人感到，他们的前途在于彻底地推翻满人的王朝，只有来自下层的流血革命才有可能实现。

——摘编自徐中约《中国近代史：1600-2000，中国的奋斗》

完成下列要求：

(1) 据材料简析戊戌变法失败的主要原因，并结合百日维新的改革举措说明戊戌变法的“激进”。(9分)

(2) 据材料概括戊戌变法失败的深远影响，谈谈你对政治改革基本策略的认识。(6分)

46. (15分) (历史—选修2：20世纪的战争与和平)

**材料** 1948年6月7日，美、英、法、比、荷、卢等六国在伦敦会议上就建立西德政府达成了协议，规定美英占区与法占区协调经济政策，统一对外贸易，实行币制改革并参加马歇尔计划，还规定9月1日在三个占领区内召开制宪会议。在这次会议上法国也放弃了分离莱茵兰的要求，充分表明这时法国最终放弃了自战争结束以来一直追求的对德强硬政策。

——摘编自王国范《论二战后初期法国对德国政策的变化》

(1) 根据材料并结合所学知识。分析法国改变对德国政策的原因。(8分)

(2) 根据材料并结合所学知识，说明法国对德国政策改变的影响。(7分)

47. (15分) (历史—选修3：中外历史人物评说)

**材料** 顾维钧对国际公法和国际问题研究深入透彻，有自己独特的见解，时常说“弱国之代表，外交务必隐忍”。他心思缜密，善于运用国际法理局部妥协，合理变通以争取最大利益。顾维钧凡事以国家利益为重，不求私利，处事客观公正，不为党派动摇，不惧外力压迫。1919年巴黎和会召开时，顾维钧独挑艰巨重任，他语惊四座地雄辩山东问题，令美英法操纵会议者无不动容。1921年顾维钧促成华盛顿会议签署《九国公约》，使各国列强不得不在形式上尊重中国领土及主权完整，中日代表在会外交涉了山东问题，中国最终收回已失去的权益，国内民心大振。“九一事变”之后，顾维钧数次代表中国向国联申诉，并援引“九国公约”，力争制裁日本。1943年1月11日，他代表中国与英国签订《中英取消治外法权并处理有关问题》协议，揭开治外法权废除的序幕。1944年，顾维钧代表中国参与筹划联合国成立，翌年旧金山会议通过了《联合国宪章》，中国成为联合国五强之一。

——摘编自贾晶《顾维钧政治人格研究》

(1) 根据材料，概括顾维钧的外交思想。(7分)

(2) 根据材料，指出顾维钧对中国外交事业的贡献。(8分)