

2019-2020 学年度第二学期摸底考试

高一历史试题

命题人：

审题人：

一、选择题（本卷共 30 个小题，每小题 2 分，共 60 分。在每小题给出的四个选项中，只有一项是符合题目要求的。）

1. 在我国古代，“社稷”是国家的代称，其中，“社”指土地之神，“稷”指主管五谷之神。关于国家的这种理解，反映了我国古代（ ）

- A. 非常地重视祭祀
- B. 视农业为立国之本
- C. 小农经济的特点
- D. 农业与土地的关系

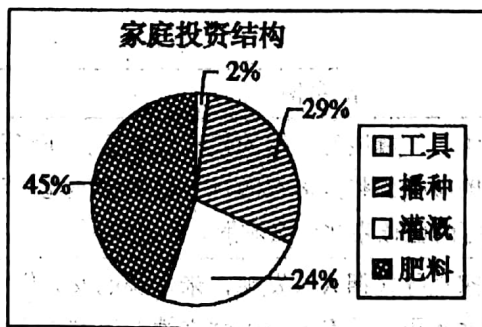
2. 剪纸是我国的民间艺术，观察下列剪纸，它们形象地反映了（ ）



- A. 古代农民的富裕生活
- B. 高度发达的商品经济
- C. 男耕女织的自然经济
- D. 古代社会的和谐融洽

3. 根据张履祥《补农书》中所载资料, 明朝末期江南地区农村家庭的投资结构如图所示:

这反映出此时江南的农业（ ）



- A. 经营更趋市场化
- B. 减少犁耕依赖
- C. 生产日趋专业化
- D. 注重精耕细作

4. 中国古代许多朝代出现“富者田连阡陌，贫者无立锥之地”的现象，根源在于（ ）

- A. 封建专制下的政治腐败 B. 商品经济的发展
C. 封建土地私有制 D. 贵族地主的压迫
- 5、下列关于中国古代土地制度的叙述，不正确的是（ ）
A. 井田制是一种土地公有制，土地属于全体国民所有
B. 公元前 594 年，鲁国的初税亩改革实际上承认了土地私有的合法性
C. 战国时代的各国改革确立了土地私有制
D. 均田制从北魏至唐代前期实行，在一定程度上限制了土地兼并现象
- 6、历史学者王家范评论说：“它对市场经济的破坏作用是双重的，即把皇室官僚乃至政府工程所需产品排斥于市场之外，依靠直接劳役实行自给，同时也使民生日用商品带有浓厚的政治财政色彩，成为一种假性商品经济。”这里的“它”指的是：（ ）
A. 民营手工业 B. 官营手工业 C. 家庭手工业 D. 个体手工业
- 7、考古学家在商丘某地的一处古墓的随葬品中，发现了青铜器、铁制农具、珐琅彩瓷器。这座墓葬最早可能现于（ ）
A. 春秋战国 B. 西周 C. 明清 D. 宋朝
- 8、《礼记·月令》关于秦代官营手工业有这样的记载：“物勒（刻画）工（制造者）名，以考其诚。功有不当，必行其罪，以穷其情。”这表明当时（ ）
A. 官营手工业生产不计成本 B. 手工业产品大都精美
C. 官营手工业重视质量管理 D. 秦朝严刑峻法民不聊生
- 9、《卖炭翁》是唐代诗人白居易的一首家喻户晓的诗作。诗中叙述老翁“小驾炭车碾冰辙”到长安城，“牛困人饥日已高，市南门外泥中歇”。此处的“市”（ ）
A. 严格管制的集中市场 B. 沿街开铺的街市
C. 没有行政管理的草市 D. 地方自治的市镇
- 10、《清明上河图》中，多家店铺门前悬挂着形制不一的幌子灯，还有一些店铺前出现了长条形招牌灯箱。这些幌子灯和灯箱既装饰了店铺，又起到了广告作用。这反映出（ ）
A. 北宋时期开始出现广告 B. 城市贸易的时间限制已经被打破
C. 商业经营的地点被打破 D. 北宋时期的手工业技术非常发达
- 11、有学者研究材料发现：宋代的商税率大致为 3% 和 2%，国家权力对商业的征税力度，比农业要低

得多；清代商人出现亏损时，统治者常常要“优商”、“恤商”。同时，统治者却很少在农家收成下降时优恤农民。这表明了：（ ）

- A. 商人地位逐渐超过其他社会阶层
- B. 宋以后国家商业税收超过农业税
- C. 古代商业政策在实践中具有灵活性
- D. 重农抑商逐渐演变成重商主义政策

12、(16 世纪晚期)山东某地开始出现“地多烟草、木棉，转卖四方，五谷之利不及其半”的情况。这说明当时该地：（ ）

- ①农业经济衰退 ②农业结构发生变化 ③商品经济发展 ④农产品加工业兴起
- A. ①② B. ②③ C. ③④ D. ①③

13、. 明朝中后期，在丝织业比较发达的苏州和杭州，出现了资本主义萌芽。下列各项最能反映出这一生产关系特征的是（ ）

- A. 制造尤工，擅绝海内
- B. 车轻工捷，获利尤丰
- C. 机户出资，机工出力
- D. 十不给一，无异空取

14、据资料统计：在明后期至清前期 200 余年间，世界白银产量的一半流入中国，拥有一流城市 and 最为密集、完善的市场网络的中国，成为当时世界经济和贸易的中心区域。然而当时它却没有形成强大的扫荡旧经济基础的革命性变化。其主要原因是（ ）

- A. “重农抑商”和“闭关锁国”政策的压制
- B. 大河流域的农耕文明不适于工商业发展
- C. 由于鸦片大量流入导致白银的大量外流
- D. 英国工业革命后对中国进行的商品输出

15、某历史网站上讲述新航路开辟的决定因素；下面是其中的四个观点，你认为正确的是（ ）

- A. 航海和造船技术的进步
- B. 大批航海冒险家的涌现
- C. 商品经济和资本主义萌芽的发展
- D. 天文、地理学的进步

16、新航路的开辟带来了“地理大发现”，从而引起了“商业革命”。“商业革命”的表现包括（ ）

- ①美洲的烟草、玉米、可可等商品出现在欧洲市场上
- ②贸易范围空前扩大，地区性贸易向世界性贸易扩展
- ③贵金属的大量流入，西欧金银持续贬值，物价直线上升
- ④欧洲商路和贸易的枢纽由地中海区域转移到大西洋沿岸。

- A. ①②③ B. ②③④ C. ①②④ D. ①③④

17、1570~1780 年，欧洲国家商船的运载能力发生巨大变化。阅读下图(单位：吨)判断甲、乙两国分别是()

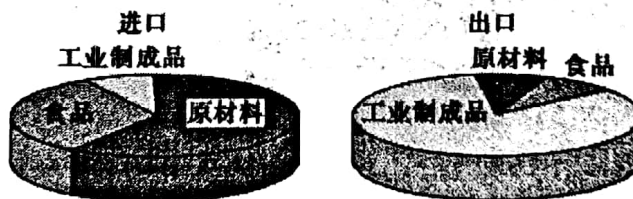
年份 国家	1570	1670	1780
甲	232 000	568 000	450 000
乙	51 000	260 000	1 000 000

- A. 英国、西班牙 B. 荷兰、葡萄牙
C. 英国、荷兰 D. 荷兰、英国

18、16—18 世纪，在美洲大陆出现了许多构词方式为“新 XXX”的地名，如：新尼德兰、新西班牙、新法兰西、新奥尔良、新英格兰等。这一现象的根源是()

- A. 新兴城市大量出现 B. 大批美洲独立国家的建立
C. 工业革命的进行 D. 欧洲殖民者对美洲的殖民扩张

19、下面是某一时期英国的对外贸易示意图，该示意图()



- A. 表明英国殖民霸权地位的确立 B. 反映了英国成为工业强国时的外贸特征
C. 表明英国的对外贸易出现逆差 D. 反映了英国工场手工业时期的外贸状况

20、长篇小说《南方与北方》的一些情节反映了 19 世纪中期英国的某种历史现象。下表描述的是女主人公玛格丽特的生活片段。

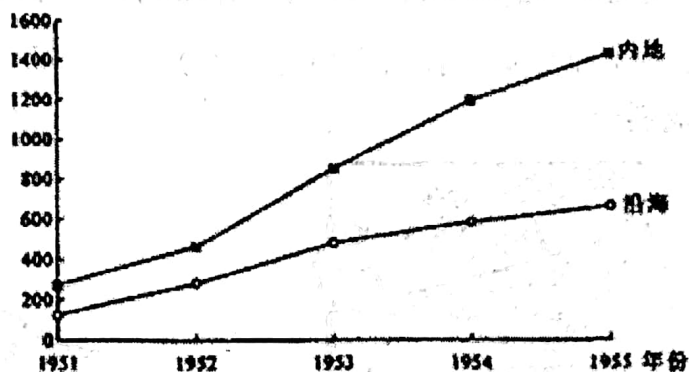
地点	故事情节
赫尔斯通 (南方农村小镇)	与表妹伊迪丝“一直谈着结婚的仪式和礼服，还谈到使一架钢琴的琴音调整是多么困难，以及伊迪丝婚后到苏格兰旅行时应该带些什么衣服。”
米尔顿 (北方工业城市)	玛格丽特在家里寻找佣人时发现，米尔顿的女人们宁愿干工厂里薪水更高又有着更大独立性的工作也不愿做佣人。

这反映出当时英国()

- A. 妇女外出活动增多 B. 男女平等成为现实

- C. 社会观念发生变化 D. 贫富差距不断拉大
- 21、皮特·N. 斯特恩斯在《全球文明史》中说：“西方工业增长和民族主义竞争在 19 世纪后期带来了帝国主义扩张的一次新浪潮。”材料所说的“新浪潮”（ ）
- A. 促进了工业革命的兴起 B. 加速了垄断组织的形成
- C. 巩固了英国“世界工厂”的地位 D. 推动了资本主义世界殖民体系的最终形成
- 22、1882 年，英国商人比尔兹利在年度财务报告中沮丧地写道：“我们的航运公司今年亏损额达到了 400 万两白银，法国的轮船公司也大致如此。……造成这种局面的原因是李鸿章先生蒸蒸日上的轮船招商局。”材料反映洋务运动（ ）
- A. 实现了国家与民族的独立和解放 B. 促进了中国自然经济的完全解体
- C. 推动了中国民族资本主义的发展 D. 一定程度上抵制了外国经济侵略
- 23、据孙毓棠《中国近代工业史资料》记载：从 1872 年到 1894 年开设的 74 家民族资本主义工厂创办人的身份看，这些工厂明确属于上海、广州、福州、宁波等地商人投资的大约有 17 家。据此可知（ ）
- A. 近代民族工业均诞生于东南通商口岸 B. 近代资本主义性质的商业有所发展
- C. 商业资本对工业发展有一定的推动力 D. 近代工业投资者主要是商人群体
- 24、甲午中日战争前 30 年间，民族资本的总额只有 680 万元，而甲午中日战争后 3 年间，民族资本的总额就增加了一倍多。出现这一历史现象的主要原因是（ ）
- A. 清政府放宽民间办厂的限制 B. 欧洲列强放缓对华经济侵略
- C. 群众性爱国运动的有力推动 D. 内地通商口岸的进一步开放
- 25、南洋兄弟烟草公司在致北洋政府财政部的信中指出：“今则外商烟厂林立于内地，就地行销，俱无征税……兹敝公司烟草既纳进口正税，复纳子口半税、杂捐、附加等税，负担既重，成本加多，虽出品优美，诚难与外货竞卖。”出现这种状况的根本原因是（ ）
- A. 民族资本主义工业在夹缝中生存 B. 中国社会的半殖民地和半封建性质
- C. 外商企业享有不平等条约的保护 D. 民族工业与外商企业的不同等待遇
- 26、1956 年 7 月，长春第一汽车制造厂试制的第一批国产解放军牌载货汽车出厂，这激发了中国人民的建设热情。这一成就取得的主要原因是（ ）
- A. 重工业基础雄厚 B. 中共八大的召开
- C. 一五计划的实行 D. 国企改革的结果

27、下图为建国初期沿海与内地工业增长速度变化示意图（定基指数：以1950年为100）。对此分析正确的是（ ）



- A. 一五计划优先发展重工业
- B. 国民经济调整任务基本完成
- C. 国民经济建设按比例协调发展
- D. 工业建设布局逐步趋于合理

28、对于我，失去的是我个人的一些剥削

所得，它比起国家第一个五年计划的投资总额是多么渺小……经过一个公私合营的过程……只要白己努力，完全可以成为光荣的社会主义社会的白食其力的劳动者。”这段话所反映的历史事件是（ ）

- A. 对资本主义工商业的社会主义改造
- B. 对农业的社会主义改造
- C. 对手工业的社会主义改造
- D. 对计划经济体制的改造

29、歌曲常会留下深刻的历史遗迹，如图歌曲反应的“跃进”时代，给我们启示是（ ）

1=C $\frac{2}{4}$ 稍快 激扬地

听话要听党的话

王 森 词
陈锡元 曲

5 5 3 5 | 6 i | 0 i 3 | 5 6 5 | 2 2 3 | 5 i | 3 4 | 3 2 | 1 2 1 | 0 i 7 | 6 5

戴 花 要 戴 大 红 花 骑 马 要 骑 千 里 马 唱 歌 要

6 | 6 i 3 5 | 6 0 | 5 5 6 | i 3 | 2 2 3 | i 0 ||

唱 前 进 歌 听 话 要 听 党 的 话。 D.C.

- A. 超英赶美实现共产主义
- B. 发展社会主义重在速度
- C. 骑马戴花树立劳模典范
- D. 实事求是服从经济规律

30、1961年，我国国家信贷支农资金（农业贷款）年底余额为63.7亿元，到1965年上升为78.2亿元，占国家信贷资金总额的比例也由1961年的7.7%上升到1965年的11%。此变化表明（ ）

- A. 国家财政经济出现明显好转
- B. 经济工作重心移至农业方面
- C. 国家对农业经济的重视提高
- D. 国民经济调整已经基本完成

二、非选择题(第 31 题 27 分, 第 32 题 14 分, 共 40 分)

31. 阅读下列材料, 回答相关问题: (分)

材料一:



图 1 汉代画像砖上的牛耕图



图 2 唐代曲辕犁



图3 都江堰(四川成都)




图4 高转筒车图

材料二: 春耕夏耘, 秋获冬藏, 伐薪樵, 治官府, 给徭役。春不得避风尘, 夏不得避暑热, 秋不得避阴雨, 冬不得避寒冻。四时之间, 亡日休息, 又私自送往迎来, 吊死问疾, 养孤长幼在其中。勤苦如此, 尚复被水旱之灾, 急政暴赋, 赋敛不时, 朝令而暮当具。有者半贾而卖, 亡者取倍称之息。于是有卖田宅、鬻子孙以偿责者。——西汉·晁错《论贵粟疏》

材料三:



鸦片战争以后频繁来上海的外国商船



1863年上海洪盛机器碾米厂

材料四: 民国初期历年新注册工厂数量一览表(不包括矿山, 单位: 家)(注: 1912 年为民国元年)

年份	民国元年	民国二年	民国三年	民国四年	民国五年	民国六年	民国七年	民国八年
工厂数	17	37	37	50	33	34	29	23

请回答：

(1) 据材料一概括指出中国古代农业发展的原因。(6分) 材料体现了我国古代什么经济政策?(2分) 这一政策对后来明清时期社会发展有何影响?(6分)

(2) 根据材料二和所学知识, 思考小农经济的特点有哪些?(6分)

(3) 依据材料三两张图片说明中国近代社会经济结构发生了哪些变化?(2分)

(4) 根据材料四, 分析民国初期我国民族工业的发展状况(1分), 并简要分析原因。(4分)

32题: 阅读下列材料, 回答问题。(13分)

材料一 处于欧洲上升时期的人们, 对黄金的渴望近乎到了癫狂。仅 1545~1560 年间, 西班牙每年从新大陆就运回黄金 5500 公斤, 白银 246000 公斤, 在这次世界范围内的财富大迁移过程中, 西班牙和葡萄牙成为了无可争辩的运输队, 而荷兰和英国则成为这次财富大迁移的最终受益者。

——方舟《从海洋开始人生的冒险家们》

材料二: 拿破仑曾嘲笑英国是一个“小店主”的国家。然而, 这个“小店主”用制造业和航海雇佣了整个世界, 将资本、生产、销售和市场联成商品经济的巨手, 当光荣革命打开了民主和自由的大门之后, 这只巨手只是轻轻一送, 就把英国推进了一个新天新地。

——《大国崛起英国》

材料三: 国内外学者把工业革命定义的研究分为工业组织学派、技术学派、能源学派……这些研究从不同侧面抓住工业革命的特征, 成为后来工业革命研究的起点。

——舒小昀《工业革命定义之争》

请回答:

(1) 根据材料一并结合所学知识, 说明大量贵重金属的涌入对欧洲社会的发展变化产生的影响。“荷兰和英国则成为这次财富大迁移的最终受益者”的含义是什么?(4分)

(2) 依据材料二和所学知识指出把英国推进“新天新地”的因素有哪些?(6分)

(3) 结合所学知识, 从上述视角分析第二次工业革命的特征有哪些?(3分)