

高二政治试卷

命题学校：天门中学

命题教师：程志华

审题学校：安陆一中

审题教师：胡亚玲

考试时间：2019 年 11 月 7 日 18:20—19:50

试卷满分：100 分

★祝考试顺利★

注意事项：

1. 答卷前，考生务必将自己的学校、考号、班级、姓名等填写在答题卡上。
2. 选择题的作答：每小题选出答案后，用 2B 铅笔把答题卡上对应题目选项的答案信息点涂黑，如需改动，用橡皮擦干净后，再选涂其他答案标号，在试卷、草稿纸上作答无效。
3. 填空题和解答题的作答：用 0.5 毫米黑色签字笔直接答在答题卡上对应的答题区域内，在试题卷、草稿纸上作答无效。
4. 考生必须保持答题卡的整洁。考试结束后，将试卷和答题卡一并交回。

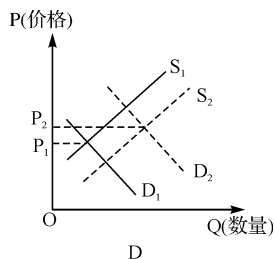
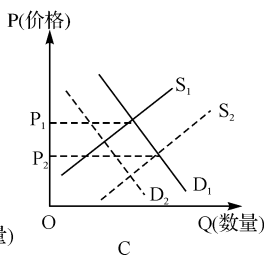
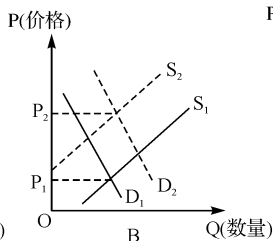
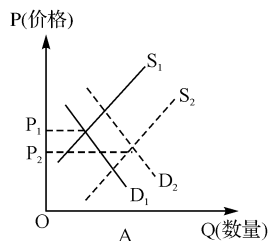
第Ⅰ卷 选择题(共 48 分)

一、选择题。(本题共 24 小题，每小题 2 分，共 48 分。在每小题给出的四个选项中，只有一项是符合题目要求的)

1. 2018 年第三季度《中国第三方支付移动支付市场季度监测报告》显示，支付宝、微信在移动支付市场份额达到 92.53%，其中，支付宝市场份额为 53.71%，微信支付市场份额为 38.82%。这里的移动支付 ()
①体现了货币价值尺度职能 ②体现了货币流通手段职能
③规避了汇率波动的风险 ④会降低纸币发行成本，提高交易结算效率
A. ①③ B. ①④ C. ②③ D. ②④
2. 在我国外汇市场上，下列情况中属于人民币贬值的是 ()
①1 美元兑换的人民币由原来的 6.8 元到 7.1 元 ②100 欧元兑换的人民币由原来的 1003 元到 998 元 ③100 元人民币能够兑换更多的美元 ④外汇汇率上升，人民币汇率下降
A. ①③ B. ①④ C. ②③ D. ②④
3. 受单边主义和贸易保护主义措施及对中国加征关税预期等影响，人民币对美元汇率有所贬值，突破了 7 元。人民币贬值将对中国经济产生多方面影响，其中消极的有 ()
①降低中国对美国高新技术产品的国际购买力 ②抑制我国对外投资，“走出去”步伐受阻
③扩大中国出口商品的价格优势，增加出口 ④美国企业对华直接投资成本下降
A. ①② B. ①③ C. ②③ D. ②④

近期受非洲猪瘟疫情影响，猪肉价格上涨较多。据此回答 4~5 题。

4. 在此背景下，国家积极引导鸡肉、牛肉等增加供应，但人们对肉食产品的价格预期仍然是上涨。对于这种预期，下列图示反映正确的是 ()



5. 国家在财政、金融、保险、土地等多方面出台政策,从生产到市场全链条发力,对养殖户和猪场进行扶持,以求恢复、扩大产能。同时,积极引导鸡肉、牛肉等增加供应,并加强市场调控和监管。此外,为保障困难群众的生活不受影响,今年四月份以来已经有 29 个省份,先后启动了社会救助和保障标准与物价上涨挂钩的联动机制。以下推导过程正确的是 ()

- ①实施财政政策→大力扶持养殖业→增加肉食产品供应→平衡市场供求
②加强宏观调控→打击哄抬物价行为→维护市场价格秩序→稳定物价
③完善社会保障制度→提高低收入者补贴→保障消费需求→稳定物价
④实施货币政策→扩大国债发行量→大力扶持养殖业→平衡市场供求

- A. ①② B. ①③ C. ②③ D. ②④

6. 某国去年一单位 A 商品的价值用该国货币表示为 24 元,如果今年生产 A 商品的社会劳动生产率提高 20%,且该国货币贬值 20%,在其他条件不变的情况下,今年一单位 A 商品的价值用货币表示为 ()

- A. 36 元 B. 25 元 C. 16 元 D. 24 元

7. 2018 年前三季度,全国居民人均可支配收入 21035 元,比上年同期实际增长 6.6%。其中,城镇居民人均可支配收入 29599 元,实际增长 5.7%;农村居民人均可支配收入 10645 元,实际增长 6.8%。2018 年前三季度,全国居民人均消费支出 14281 元,比上年同期实际增长 6.3%。其中,城镇居民人均消费支出 19014 元,实际增长 4.3%;农村居民人均消费支出 8538 元,实际增长 9.8%。从上述材料中可以看出 ()

- ①居民人均消费支出与经济发展水平成反比 ②城镇居民人均可支配收入高于农村 ③城镇居民人均消费支出增长率低于农村 ④城镇居民人均可支配收入高于农村,是城镇人均消费支出增长率高于农村的主要原因

- A. ①② B. ①③ C. ②③ D. ②④

8. 2019 年 8 月 23 日,国务院办公厅印发《关于进一步激发文化和旅游消费潜力的意见》。《意见》提出了 9 项激发文化和旅游消费潜力的政策举措。《意见》还从强化政策保障、加强组织领导等方面提出了若干保障措施,要求用好各类资金支持各地文化和旅游基础设施建设,充分发挥财政资金引导作用,增加优质消费供给。这些政策举措将 ()

- ①为旅游业供给侧改革提供新的出路 ②从根本上更新居民的消费观念
③拓展旅游业发展空间,培育消费新热点 ④有利于调整消费结构,更新居民消费方式

- A. ①② B. ①③ C. ②③ D. ③④

9. 今年是新中国成立 70 周年。70 年来,我国民营经济从小到大、从弱到强,不断发展壮大。民营经济已经成为推动我国经济社会发展不可或缺的力量,成为创业就业的主要领域、技术创新的重要主体、国家税收的重要来源,为我国社会主义市场经济发展、国际市场开拓作出了重要贡献。据此推断,民营经济 ()

- ①是促进我国经济发展的重要力量 ②在我国国民经济中已经开始发挥主导作用 ③其发展会动摇国有经济的主体地位 ④与国有经济一样都是我国经济社会发展的重要基础

- A. ①② B. ①④ C. ②③ D. ③④

10. 2019年3月1日,我国科创板主要制度规则正式公布。科创板是专为科技型和创新型中小企业服务的上市板块,着力支持关键核心技术创新,提高服务实体经济能力。上述科技型和创新型中小企业 ()
- ①属于有限责任公司 ②属于股份有限公司 ③股东以其认缴的出资额为限对公司承担责任 ④股东以其认购的股份为限对公司承担责任
- A. ①③ B. ①④ C. ②③ D. ②④
11. 国家着力完善资本市场的直接融资功能,设立科创板,鼓励科技型和创新型中小企业上市,提高金融业服务实体经济的能力,其积极影响表现在 ()
- ①企业形成稳定的投资回报机制 ②科技创新企业的融资能力增强
③新技术催生新产业引发新业态 ④资本市场监督和管理更加规范
- A. ①③ B. ①④ C. ②③ D. ②④
12. 近日,国务院办公厅印发《关于促进平台经济规范健康发展的指导意见》。《意见》提出了五个方面政策措施。一是优化完善市场准入条件,降低企业合规成本。二是创新监管理念和方式,实行包容审慎监管。三是鼓励发展平台经济新业态,加快培育新的增长点。四是优化平台经济发展环境,夯实新业态成长基础。五是切实保护平台经济参与者合法权益,强化平台经济发展法治保障。以下关于促进平台经济规范健康发展的说法正确的是 ()
- ①要积极发展“互联网+服务业”,大力发展“互联网+生产”,深入推进“互联网+创业创新”,加强网络支撑能力建设 ②进一步发挥进口博览会作用,拓展电商进口渠道,引进优质品牌,降低商品价格,提高居民消费水平,促进国内产业在竞争中转型升级 ③建立完善政府共享企业数据制度,促进政企间数据高效、有序流通,进一步激发数据活力 ④依法从严打击假冒伪劣、侵犯知识产权、严重侵害消费者权益的行为,提高企业经济效益,让互联网平台经济健康有序发展
- A. ①③ B. ①④ C. ②③ D. ②④
13. 《关于2019年调整退休人员基本养老金的通知》明确从2019年1月1日起,为2018年底前已按规定办理退休手续并按月领取基本养老金的企业和机关事业单位退休人员提高基本养老金水平,总体调整水平为2018年退休人员月人均基本养老金的5%左右。以下认识正确的是 ()
- ①政府通过再分配的调节职能,促进社会公平 ②政府强化行政手段,让人民共享发展的成果 ③初次分配和再次分配都要处理好效率和公平的关系 ④再分配要更加注重公平,不断增加人民的获得感和幸福感
- A. ①③ B. ②④ C. ②③ D. ①④
14. 中国人民银行决定于2019年9月16日全面下调金融机构存款准备金率0.5个百分点(不含财务公司、金融租赁公司和汽车金融公司)。关于下调金融机构存款准备金率的影响,以下推导正确的是 ()
- A. 下调金融机构存款准备金率→信贷资金供应量增加→商业银行信贷能力提高→社会融资实际成本降低→促进实体经济发展
B. 下调金融机构存款准备金率→加快货币流通速度→社会总供给与社会总需求基本平衡→物价稳定→国民经济平稳运行
C. 下调金融机构存款准备金率→满足客户资金结算需求→防范挤兑金融风险→促进国民经济稳定发展
D. 下调金融机构存款准备金率→货币供应量减少→抑制社会总需求→防范通货膨胀
15. 2019年我国积极的财政政策要“加力提效”,“加力”就是保持一定赤字规模,财政收入层面,实施更大规模减税降费,较大幅度增加专项债规模;“提效”重点是“精准”,压缩一般性支出,

保障民生等重点支出。“加力提效”旨在 ()

- ①减轻企业税负,增强经济发展活力 ②加大财政支出,增加社会总供给,改善人民生活
③优化财政支出结构,促进经济高质量发展 ④加大财政支出力度,解决市场调节失灵问题
A. ①③ B. ②④ C. ②③ D. ①④

16. 受中美贸易战、整体经济下行的影响,2019 年是工业机器人行业一个相对“低潮”的年份,工业机器人市场增速放缓,不少厂商在产能扩充后面临产能过剩的风险,加上中低端市场上低价竞争的蔓延,资金压力贯穿整个产业链。未来我国工业机器人企业应该 ()

- ①加强市场监管,提升服务质量,增强竞争优势 ②推动产品结构调整,适销对路,占领市场份额
③加快高端机器人的应用技术研发,进行品牌建设 ④及时掌握数据,加速转型升级,避免激烈竞争
A. ①③ B. ②④ C. ②③ D. ①④

17. 2019 年 1 月 1 日,新修改的《中华人民共和国个人所得税法》正式实施,起征点提高至 5000 元/月;《个人所得税专项附加扣除暂行办法》发布,其中包括子女教育、继续教育、大病医疗、住房贷款利息或者住房租金、赡养老人等 6 项专项附加扣除。下列对我国个人所得税调整的影响,分析正确的是 ()

- A. 个税起征点提高,财政收入减少,不利于财政作用发挥,影响社会公平和改善民生
B. 个税起征点提高,高收入者税负增加,收入差距缩小,有利于提高社会总体消费水平
C. 增加专项费用扣除,居民现期收入增加,有利于刺激消费,促进经济发展
D. 增加专项费用扣除,食物支出所占比重提高,有利于扩大内需,实现经济发展

18. 2019 年 6 月 18 日,江西省市场监管局将运用国家企业信用信息公示系统(江西),重点针对全省食品、药品经营企业公示信息等内容开展了一次“双随机”联合抽查。对检查中发现企业公示信息隐瞒真实情况、弄虚作假,以及通过登记的住所(经营场所)无法联系等情况的,将被市场监管部门列入经营异常名录;对其他违法线索的,将依法移交有关部门处理。这对食品、药品经营企业的启示是 ()

- ①运用市场规则,建立安全监控体系 ②建立市场规则,健全社会信用制度
③承担社会责任,诚实守信合法经营 ④加强经营管理,增强市场规则意识
A. ①② B. ①③ C. ②④ D. ③④

19. 2019 年 3 月 26 日,国家财政部、工信部、科技部、发改委联合发布了《关于进一步完善新能源汽车推广应用财政补贴政策的通知》,通知规定续航里程小于 250 公里的新能源汽车将不再享受补贴,而其他车型的补贴幅度也大幅缩水,对车辆的技术标准也提出了更高的要求。在 3 个月的过渡期结束后,地方将不再对新能源汽车给予购置补贴,转而将资金用于支持充电基础设施。对国家出台上述政策的正确认识是 ()

- ①运用行政手段,限制落后于补贴标准的新能源汽车的生产和销售,推动节能减排 ②运用经济手段,引导相关企业提高新能源汽车的技术与质量,促进产业优胜劣汰
③地方补贴转向支持充电基础设施建设,促进新能源汽车使用的便利性,激活市场需求 ④取消或减少购置补贴,必然导致新能源汽车销售价格提高,影响消费者的购车预算
A. ①④ B. ②④ C. ②③ D. ①③

20. 2019 年,我国继续实施积极的财政政策和稳健的货币政策,以达到预期目标。下列调控政策、具体措施、调控目标三者对应最恰当的是 ()

- A. 积极的财政政策——下调金融机构一年期存贷款基准利率——调结构
B. 稳健的货币政策——严控对高耗能、高污染行业的贷款——控物价
C. 积极的财政政策——减轻服务业和小微型企业税收负担——稳增长
D. 稳健的货币政策——加大对战略性新兴产业财政支持力度——惠民生

21. 习近平总书记多次强调,要把推进农业供给侧结构性改革作为农业农村工作的主线。在河南代表团讲话中又特别提出,“要推进农业供给侧结构性改革”,做到“不断提高农业质量效益和竞争力,实现粮食安全和现代高效农业相统一”。下列措施中有利于推进农业供给侧结构性改革的是 ()
- ①加强农产品质量监管,确保食品安全 ②加快转变农业发展方式,推动农业提质增效
③实施精准扶贫政策,千方百计增加农民收入 ④刺激农产品市场需求,促进农业生产发展
- A. ①② B. ①③ C. ②④ D. ③④
22. 2019年8月19日,在第一届国家公园论坛开幕之际,中共中央总书记、国家主席、中央军委主席习近平发来贺信。习近平在贺信中指出,生态文明建设对人类文明发展进步具有十分重要的意义。近年来,中国坚持“绿水青山就是金山银山”的理念,坚持山水林田湖草系统治理,实行了国家公园体制。中国实行国家公园体制的举措 ()
- ①是贯彻绿色发展理念,实现人与自然的和谐共生
②有利于创造新的经济增长点,推动经济高速增长
③创新体制机制,彻底破解政府环保体制机制障碍
④有利于实行最严格的生态保护,筑牢国家生态安全屏障
- A. ①③ B. ②④ C. ②③ D. ①④
23. 2019年6月30日,国家发展改革委、商务部发布了《外商投资准入特别管理措施(负面清单)》和《自由贸易试验区外商投资准入特别管理措施(负面清单)》,放宽城市燃气热力、电影院、增值电信、石油天然气开采等领域的准入条件。以下认识正确的有 ()
- ①有利于引入资金、技术、管理、人才和商业模式,促进技术进步、产业升级
②积极参与经济全球化进程,不断拓展对外开放的深度
③保证外国企业公开公平公正参与市场竞争,巩固公有制经济的主体地位
④转变对外经济发展方式,培育出口竞争新优势
- A. ①② B. ①④ C. ②③ D. ③④
24. 日前,国务院印发《中国(山东)(江苏)(广西)(河北)(云南)(黑龙江)自由贸易试验区总体方案》。《总体方案》提出了各有侧重的差异化改革试点任务:山东自贸试验区提出了培育贸易新业态新模式、加快发展海洋特色产业和探索中日韩三国地方经济合作等方面的具体举措;江苏自贸试验区提出了提高境外投资合作水平、强化金融对实体经济的支撑和支持制造业创新发展等方面的具体举措。设立自由贸易试验区 ()
- ①克服市场调节的缺陷,统筹区域发展 ②有利于形成参与国家经济合作和竞争的新优势
③彰显我国全面深化改革和扩大试验田的作用 ④表明我国把对外开放作为自己发展的根本基点
- A. ①③ B. ②③ C. ①④ D. ②④

第Ⅱ卷 非选择题(共52分)

二、非选择题。(本卷共4小题,共计52分)

25. (14分)对于近期猪肉价格持续维持高位,商务部新闻发言人高峰在2019年8月29日的例行发布会上回应称,商务部将密切跟踪市场动态,会同相关部门适时投放中央储备冻猪肉和牛羊肉,增加肉类市场供应。同时,指导产销区建立稳定的购销协作关系,促进区域间产销衔接,畅通肉类供应渠道。此外,将按照市场化的原则,继续鼓励扩大猪肉进口。通过综合施策,确保国内肉类市场供应稳定。

付一夫建议,可以考虑加大养殖户的补贴力度,鼓励农民养殖,稳定生猪存货量,缓解周

期性波动的影响,增加对生猪养殖的投入,加快良种生猪养殖场地的建设,促进生猪品种的改良;同时,应深入推进标准化规模养殖,推动生猪生产方式的转变升级,引导农民建立养殖小区,降低成本,改善防疫病的条件,提高牲畜的抗病害能力。

(1)运用经济生活的有关知识分析猪肉市场价格上涨的原因?(4分)

(2)试分析上述稳定猪肉价格政策建议的经济生活依据,及其对生猪行业的积极意义。(10分)

26. (12分)中国“电子信息百强企业”之一的深圳华为集团创立于1988年,华为集团始终坚持“死死抓住核心技术”的经营理念,专注于通讯设备的生产和研究。华为拥有2.2万名雇员,其中46%属于研发部门;每年,华为至少拨出10%的销售收入投资研发。

华为集团在薪酬管理体系上构建内部公平性和外部竞争性的辩证统一,达成了符合华为集团的战略观念。

2019年4月23日,华为成立了一家新公司,名为“哈勃科技投资有限公司”,注册资本为7个亿。据相关消息,哈勃投资近期共出手两次,分别投资了山东天岳和杰华特微电子两家公司。华为在半导体产业都以布局IC设计为主,在中美贸易战大家在争夺半导体话语权的的大环境下,哈勃入股山东天岳、杰华特也意味着华为开始涉足半导体产业链的上下游。

华为始终恪守商业道德,倡导公平经营,反对行贿受贿和其他腐败行为,反倾销,反垄断,营造和谐的商业环境,与其他合作伙伴共同成长。

结合上述材料,运用经济生活的有关知识,分析作为中国民营企业龙头的华为集团实行怎样的经营策略?

27. (12分)深入贯彻落实湖北省委十届六次全体(扩大)会议精神,坚持“精准扶贫,教育先行;教育扶贫,育人为本”。

建档立卡贫困家庭学龄孩子在优先享受现行资助政策的基础上,予以最大限度的资助。普通高中教育阶段,学费全免,按每生每年2500元的标准发放国家助学金。

统筹实施普通高中改造项目,在科学布局的基础上,每年重点改造16所左右贫困地区普通高中办学条件,着力加强薄弱高中教学及辅助用房、体育场地建设和教学仪器设备配备。

结合上述材料,分析国家财政在湖北精准扶贫中所发挥的作用。

28. (14分)2019年8月20日—8月25日,2019世界机器人大会在北京亦创国际会展中心召开。本届世界机器人大会的主题为“智能新生态,开放新时代”,规模为历年最大,吸引全球180多家机器人领域知名企业,超过20个国家和地区的4500余名专业选手在同期举办的“世界机器人大赛”同场竞技。近年来人工智能成为新一轮产业变革的核心驱动力,机器人技术也加快向各行业的具体场景延伸,推动产品、服务、应用全面落地。

人工智能作为新一轮产业变革的核心驱动力,将进一步释放历次科技革命和产业变革积蓄的巨大能量。我国经济发展进入新常态,深化供给侧结构性改革任务非常艰巨,必须加快人工智能深度应用,培育壮大人工智能产业。未来,人工智能将在教育、医疗、养老、环境保护、城市运行、司法服务等领域被广泛应用,并将准确感知、预测、预警基础设施和社会安全运行的重大态势,及时把握群体认知及心理变化,主动决策反应。

结合材料,运用经济生活知识分析大力发展人工智能的意义。