

高二年级政治学科试卷

I 卷 (70 分)

注意事项:

1. 每题选出答案后, 用铅笔将答题卡上对应的题目的答案标号涂黑。如需改动, 用橡皮擦干净后, 再选涂其他答案标号。

2. 本卷共 35 题, 每题 2 分, 共 70 分。在每题列出的四个选项中, 只有一项是最符合题目要求的。

1. 2018 年, 高校毕业生人数达到 820 万, 再创新高。为此, 从国家到地方层面相继出台多项政策, 为高校毕业生就业“开绿灯”。人社部印发《关于做好 2018 年全国高校毕业生就业创业工作的通知》, 提出要深入实施高校毕业生基层成长计划, 统筹推进“三支一扶”计划等服务项目, 鼓励毕业生到城乡基层、中西部地区、艰苦边远地区就业创业, 材料告诉大学生的信息有 ()

- ①党和政府在实施积极的就业政策, 多渠道扩大就业
- ②三百六十行, 行行出状元, 大学生要树立职业平等观
- ③大学生要不断提高素质, 主动适应劳动力市场的需要
- ④提高精神境界, 以辛勤劳动为荣, 以好逸恶劳为耻

A. ①② B. ②③ C. ①④ D. ③④

2. 2017 年 11 月 18 日国务院印发《划转部分国有资本充实社保基金实施方案》, 这是解决百姓养老后顾之忧、加强社会保障体系建设的重要举措。基本目标是弥补因实施视同缴费年限政策形成的企业职工基本养老保险基金缺口, 促进建立更加公平、更可持续的养老保险制度。上述做法能够 ()

- ①让人民共享经济发展成果, 实现共同富裕
- ②促进收入分配公平, 保障和改善民生
- ③转变经济发展方式, 扩大国内消费需求
- ④加快发展生产力, 体现效率优先的原则

A. ①② B. ③④ C. ①④ D. ②③

3. 不同的商品生产者生产同一商品, 在同一时间、同一市场上, 以同一价格出售, 有人赚钱, 有人亏本。这是因为它们生产同一商品的 ()

- A. 劳动积极性不同
- B. 社会必要劳动时间不同
- C. 个别劳动生产率不同
- D. 产量不同

4. 汇率是以一种货币衡量的另一种货币的价格, 其变化影响着整个经济, 也影响着我们的日常生活。若不考虑其他因素, 下列说法正确的是 ()

- ①如果人民币相对于外币的价格上涨, 则人民币购买外国商品的购买力增强
- ②如果人民币相对于外币的价格降低, 用外币购买外国商品时价格就会便宜
- ③如果美元贬值, 美国商品用人密闭标识的价格上升, 不利于中国进口美国商品
- ④如果美元升值, 中国商品用美元标识的价格下降, 有利于中国商品出口美国。

A. ①③ B. ②④ C. ①④ D. ②③

5. 扩大内需特别是消费需求是我国经济长期平稳较快发展的立足点，我们要着力扩大消费需求，加快构建扩大消费的长效机制，提高居民消费能力。从经济生活的角度分析，其依据是（ ）

- A. 生产决定消费的质量和水平 B. 消费拉动经济增长，促进生产发展
C. 生产决定消费的对象 D. 物价的变动会影响人们的购买力

6. “复兴号”CR400 动车组的成功投入运营，表明我国已全面掌握高铁核心技术。我国将根据其他国家 实际需要，量身打造具有竞争力的动车组成套技术和产品，推动中国高铁“走出去”。这表明我国（ ）

- ①有效避免了市场调节的自发性 ②实现了产业结构的优化升级
③依靠自主创新提升国际竞争力 ④面向国际市场打造中国品牌
A. ①② B. ①④ C. ②③ D. ③④

7. 习近平总书记关于国有经济发展和国有企业改革的大方向的一系列重要讲话可以概括为“四论”：“命门论”，国有经济是我们的命门；“基础论”，国有经济是党执政的重要基础；“加强论”，国有企业只能加强，不能削弱；“防流失论”，不能在一片改革浪潮中造成国有资产流失。下列对上述论断的认识正确的是（ ）

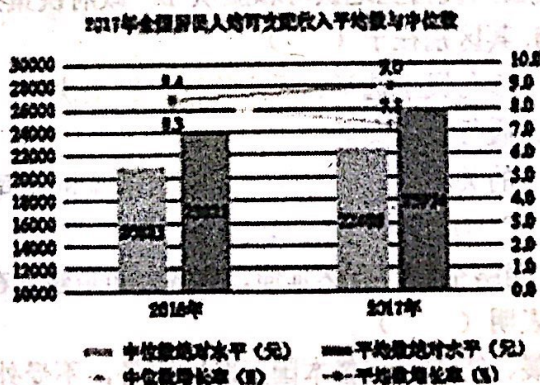
- A. “加强论”要求国有资产必须在社会总资产中占优势
B. “命门论”强调国有经济要控制国民经济命脉，发挥主导作用
C. “防流失论”要求国企改革不允许有非公有制成分
D. “基础论”强调国有经济在社会主义市场经济中占支配地位

8. 自 2018 年以来，上海、深圳、陕西等多地上调最低工资标准，这一举措（ ）

- ①是国家通过再分配机制维护劳动者合法权益的表现
②有利于规范企业在工资分配中的行为，维护劳动者的合法权益
③使初次分配的结果更有利于激发劳动者的积极性和创造性
④提高了企业用工成本，阻碍企业的快速发展

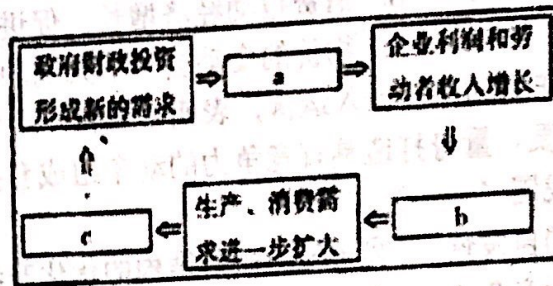
- A. ①② B. ②③ C. ①④ D. ③④

9. 2017 年我国城镇居民人均名义消费支出 24445 元，只比上年增长了 5.9%，而 2016 年的增速为 7.9%。有研究指出，上述消费现象的出现，与图反映的问题有密切关系。（注：中位数是按顺序排列的一组数据中居于中间位置的数）据此适宜向国家提出的政策建议是（ ）



- A. 下调汽车的进口关税 B. 加强国家创新体系建设
C. 提高个人所得税起征点 D. 惩处侵害消费者权益的行为

10. 财政在国家经济生活中发挥着重要作用, 根据所学经济生活知识, 图中 a、b、c 处依次应该填入 ()



- ①经济增长, 财政收入增加 ②企业增加投资, 居民消费增长 ③企业生产扩大, 就业增加
A. ①→③→② B. ③→①→② C. ③→②→① D. ②→③→①

11. 2018年4月10日, 新组建的国家市场监督管理总局正式挂牌, 其整合了原国家工商行政管理总局、原国家质量监督检验检疫总局, 原国家食品药品监督管理总局的职责, 负责市场综合监督管理。由此可见国家机构改革的意义在于 ()

- ①优化政府管理, 实现公共服务均等化 ②优化国家机构设置, 提高治理能力
③转变政府职能, 进一步推进简政放权 ④提升执法效能, 提高市场监管
A. ①② B. ①③ C. ②④ D. ③④

12. 发展社会主义民主政治, 要毫不动摇地坚持人民代表大会制度, 与时俱进地完善人民代表大会制度。这是因为, 人民代表大会制度是我国的 ()

- A. 基本政治制度, 坚持民主集中制原则 B. 国家权力机关, 统一行使我国国家权力
C. 根本政治制度, 符合中国的基本国情 D. 政权组织形式, 决定着我国的国家性质

13. 现在北京等一些城市将百姓“幸福感”纳入到和谐社会指标体系的调查中。要提升百姓的“幸福感”, 政府应该 ()

- ①依法执政, 扩大政府的直接干预权力 ②求真务实, 坚持对人民负责的原则
③以人为本, 维护老百姓的所有权益 ④转变职能, 建设服务型政府。
A. ①② B. ②③ C. ②④ D. ③④

14. 区别政府有无权威的根本标志是 ()

- A. 政府工作人员是否具有高素质 B. 政府的行政管理体制是否科学合理
C. 政府的管理和服务是否被人民自觉地认可和服从 D. 政府决策是否让全体公民参与

15. 有序与无序的政治参与, 其区别在于 ()

- ①是否遵守法律规定的程序参与民主选举、民主协商、民主决策、民主管理、民主监督
②是否依法行使政治权利、履行政治义务
③是否正确处理权利与义务的关系 ④是否经过国家机关同意
A. ①②③ B. ①②④ C. ①③④ D. ②③④

16. 网络主权是国家主权在网络空间的自然延伸, 网络空间是建立在各国主权之上的一个相对开放的信息领域。这表明 ()

- ①国家能够独立自主地发展、管理、监督本国互联网事务, 不受外部干涉
②一国能够平等地参与国际互联网治理, 有权防止本国互联网受到外部入侵和攻击

③虚拟的网络空间利益高于主权国家的国家利益

④网络主权的出现改变了传统的国家间关系，是一种全新的国际关系形式。

A. ①② B. ①④ C. ②③ D. ③④

17. 要坚持以人为本，最大限度地把信教群众团结起来，把他们的智慧和力量凝聚到实现全面建成小康社会，加快推进社会主义现代化的共同目标上来。在我国，信教群众和不信教群众能够共同致力于社会主义现代化建设事业，这是因为（ ）

①我国宗教坚持独立自主自办的原则 ②我国实行宗教信仰自由政策

③社会主义现代化建设是信教群众和不信教群众的根本利益所在

④随着社会的发展，我国的宗教已经从本质上得到改变

A. ①② B. ②③ C. ③④ D. ①④

18. 党的十九大报告明确对“建设法治政府，推进依法行政，严格规范公正文明执法”作出重要部署，坚定不移把法治政府建设加快向前推进。建设依法行政的法治政府，必须（ ）

①坚持党的领导作为根本保证 ②保障民主决策作为工作核心

③树立政府权威以改善执法 ④落实职权法定，法无授权不可为

A. ②④ B. ①③ C. ①④ D. ③④

19. “反腐败没有观众席”，人人都是参与者，每个人的参与都很重要，群众举报是腐败案件线索的重要来源，群众支持是查办腐败案件的强大动力。事实证明，没有群众的广泛参与，任何好制度、好方法、都可能成为“龙中虎”。而只有人民群众的广泛参与，反腐败斗争才能如虎添翼。广泛发动群众参与反腐败工作之中要求（ ）

①完善行政系统内部监督 ②保障人民群众的选举权与被选举权

③畅通信访举报制度等民主监督的渠道，建立健全人民群众参与反腐败的机制

④拓宽人民群众参与反腐败工作，使人民有机会参与反腐败的决策。

A. ①② B. ①③ C. ②④ D. ③④

20. 下表为M市政府指标建设体系的相关内容：

项目	要求
机构职责	机构依法设置，机构职责依法确定
行政决策	科学民主决策机制健全，行政决策权限依法确定，责任追究制度完善
公共财政管理	财政预算管理制度健全，依法管理非税收入
政府信息公开	政府信息公开制度健全，政府信息依法公开

这主要表明该市（ ）

A. 建设责任政府，实现权责统一 B. 建设威信政府，完善各项制度

C. 建设透明政府，推进民主决策 D. 建设法治政府，坚持依法行政

21. 九鼎重器，百炼乃成。宪法是国家的根本法，是治国安邦的总章程，具有最高的法律地位。2018年3月11日，十三届全国人大一次会议表决通过了《中华人民共和国宪法修正案》。中国特色社会主义进入了新时代，我国宪法应坚持与时俱进。下列古语与宪法修改所蕴含的哲理相一致的是（ ）

- ①为之于未有，治之于未乱 ②究天人之际，通古今之变
③明者因时而变，知者随事而制 ④法与时转则治，治与世宜则有功

A. ①② B. ③④ C. ①③ D. ②④

22. 爱因斯坦认为，光既是波，又是微粒，是连续的，又是不连续的。这启示我们（ ）

- A. 矛盾的特殊性是寓于矛盾普遍性之中 B. 要发展地看待一切事物
C. 要承认矛盾的对立并坚持矛盾的统一 D. 要反对唯心主义世界观

23. 对“真理面前人人平等”理解正确的是（ ）

- A. 真理对任何人都是平等的 B. 在真理面前任何人都是平等的
C. 任何人都必须承认认识的真理 D. 在对同一对象的不同认识中，真理只有一个


24. 我国加快实行以增加知识价值为导向的分配政策，充分发挥收入分配政策的激励导向作用，激发广大科研人员的积极性、主动性和创造性。国家重视调整分配关系是因为（ ）

- ①分配关系属于生产关系，对生产力具有反作用
②上层建筑的调整能够促进经济基础的巩固和完善
③改革是发展中国特色社会主义的强大动力
④分配问题是影响我国现阶段发展的主要矛盾。

A. ①③ B. ①④ C. ②③ D. ③④

25. 如图漫画《不相称》给人们的哲学启示是（ ）

- A. 要尊重客观规律 B. 要重视量的积累
C. 要坚持两点论与重点论的统一 D. 坚持可知论和不可知论的统一



26. 几十年来，科学家们认为，大脑中的神经元仅在早期发育时期生成，并且无法补充。然而，最近研究发现，这些细胞具有分裂能力，并能在特定大脑区域中变成新的神经元。这表明（ ）

- ①意识对改造客观世界具有指导作用 ②意识能正确把握客观事物及其本质
③真理常常在新的实践活动中被推翻 ④认识的真理应不断接受实践检验。

A. ①③ B. ①④ C. ②③ D. ②④

27. 在机械设计中有一个“等强原则”，即设计一个机器零件要使每一个部分的强度相等，这样机器零件的各个部分才会达到同等的使用寿命，才不会因一个部分先报废而使其他完好的部分浪费。“等强原则”所蕴含的哲学道理是（ ）

- A. 要重视系统内部结构的优化趋向 B. 事物运动是有规律的
C. 部分构成整体，部分决定整体 D. 必须实现资源的合理配置

28. 意大利蒙扎市议会通过了一项法案，禁止市民将金鱼养在圆形鱼缸里观赏。提案者解释说，把金鱼关在圆形鱼缸里非常残忍，因为弯曲的表面会让金鱼眼中的“现实”世界变得扭曲。可问题在于，我们怎么知道我们感知到的“现实”是真实的？金鱼看见的世界与我们所谓的“现实”不同，但我们怎么能肯定它看到的就不如我们真实？这一事例启示我们（ ）

- ①不断反思是意识能动性的表现 ②世界复杂性寓于联系的多样性之中
③换位思考能检验认识的误区，提高认识正确性 ④感知无法对“现实”作出回答
A. ①② B. ②③ C. ①④ D. ③④

29. 批驳漫画中的冷漠行为，最适合的观点是（ ）



- A. 前途是曲折的，要着眼长远 B. 冰冻三尺非一日之寒
C. 无穷的远方，无数的人们，都与我有关 D. 冷漠的心态是社会现实的反映

30. 王夫之认为“气者，理之依也”；朱熹认为“理生万物”，“理主动静”。朱熹认为“理生万物”。这一观点（ ）

- A. 承认“万物”是“理”的本原 B. 主张现实世界是“理”的外化
C. 认为客观事物依赖于主观精神 D. 坚持了唯物主义的根本方向

31. 下列关于人大代表、人大、人民之间关系表述正确的是（ ）

- A. 人大代表在人大会有决定权
B. 由人民选出来的人大代表组成国家最高权力机关人民代表大会
C. 人大代表受人民的监督，人民有权罢免人大代表
D. 人大代表通过人大间接行使管理国家和社会事务的权力

32. 从国际组织的类型角度看，欧洲联盟、联合国均属于（ ）

- A. 世界性国际组织 B. 区域性国际组织
C. 非政府国际组织 D. 政府间国际组织

33. 由于国家是从控制阶级对立的需要中产生的，由于它同时又是在这些阶级的冲突中产生，所以，它照例是最强大的、在经济上占统治地位的阶级的国家，这个阶级借助于国家而在政治上也成为占统治地位的阶级，因而获得了镇压和剥削被压迫阶级的新手段。这说明（ ）

- ①国家是阶级矛盾不可调和的产物 ②国家的根本职能就是管理与发展经济
③所有国家都是一定阶级对其他阶级的专政 ④阶级是国家存在与发展不可缺少的要素
A. ①② B. ②③ C. ①③ D. ②④

34. 中国第一部专门体现“绿色税制”、推进生态文明建设的单行税法——《环境保护税法》于2018年1月1日起正式实施，意味着施行了近40年的排污收费制度退出历史舞台。

此法出台实施的过程依次是（ ）

- ①国务院在调研的基础上形成《中华人民共和国环境保护税法》修订草案
- ②税务机关根据通过的《中华人民共和国环境保护税法》组织征税
- ③全国人大常委会审议并通过《中华人民共和国环境保护税法》修订草案
- ④环境保护部等三部门形成《中华人民共和国环境保护税法》(草案稿)

A. ①-③-④-② B. ①-④-③-② C. ④-③-①-② D. ④-①-③-②

35. 哈佛大学政治理论讲师亚沙·蒙克认为：在美国，花在政治竞选活动上的巨额资金放大了普通美国人的一种感觉，他们在政治上和经济上被边缘化了。这反映了（ ）

- ①民主具有鲜明的阶级性
- ②普通美国人的民主权利被剥夺
- ③美国强化了新型的专政
- ④美式民主体现美国的国家性质

A. ①③ B. ①④ C. ②③ D. ③④

II 卷 (30 分)

注意事项:

1. 用钢笔或签字笔将答案写到答题纸上

2. 本卷 3 大题, 共 30 分。

36. (10 分) 面对激烈的市场竞争, 中铁建集团已经做好高铁出海的全球谋划, 为不同地形、地貌和气候类型国家量身打造了具体方案。目前已经成功拥有世界先进的高铁集成技术、施工技术、装备制造技术和运营管理技术, 具有组团出海的实力, 可以挑战任何竞争对手。中国铁路装备最大的优势, 一是性价比高, 二是交货能力强。

结合材料, 用企业经营的知识分析中铁建集团成功的经验。

37. (10 分) 2015 年 10 月 29 日, 党的十八届五中全会审议通过《中共中央关于制定国民经济和社会发展第十三个五年规划的建议》, 为“十三五”期间的国民经济和社会发展描绘蓝图; 国务院在“十三五”规划建议的指导下, 广泛征求社会各界意见, 编制“十三五”规划纲要(草案), 主要阐明国家战略意图, 明确政府工作重点, 引导市场主体行为; 2016 年 3 月, 国务院向全国“两会”提交“十三五”规划纲要(草案), 经全国人民代表大会审议通过之后, 作为各族人民共同的行动纲领和政府职责的重要依据, 正式对外发布。

结合材料和所学政治生活知识, 说明中共中央、国务院和全国人大在“十三五”规划编制中是怎样体现依法治国的。

38. (10 分) 全面深化改革的总目标是完善和发展中国特色社会主义制度, 推进国家治理体系和治理能力现代化。国家治理体系, 是党领导人民管理国家的制度体系, 包括经济、政治、文化、社会、生态文明和党的建设等各领域的体制、机制和法律法规安排, 也就是一整套紧密相连、相互协调的国家制度。国家治理能力, 是运用国家制度管理社会各方面事务的能力, 包括改革发展稳定、内政外交国防、治党治国治军等各个方面的能力。

运用矛盾同一性的相关知识, 说明国家治理体系和治理能力之间的关系。

天津市耀华中学 2018—2019 学年度第二学期期中形成性检测

高二年级政治学科答案

- 1 ——5 AACCB
6 ——10 DBBCC
11 ——15 CCCCA
16 ——20 ABCDD
21 ——25 BCDAC
26 ——30 DAACB
31 ——35 CDCDB

36. (10 分) 结合材料, 用企业经营的知识分析中铁建集团成功的经验。

【答案】①制定正确的经营战略, 全球谋划, 为不同类型国家打造具体方案; (3 分) ②提高自主创新能力, 依靠科技进步、科学管理形成自己的竞争优势; (4 分) ③诚信经营。生产出性价比高的产品, 提高交货能力。(3 分)

37. (10 分) 结合材料和所学政治生活知识, 说明中共中央、国务院和全国人大在“十三五”规划编制中是怎样体现依法治国的。

【答案】①在党的会议上通过《建议》, 再经全国人大审议通过, 体现了依法治国是中国共产党治国的基本方略, 社会主义法治必须坚持党的领导, 依法执政是中国共产党执政的基本方式。(3 分)

②国务院在《建议》的指导下, 征求意见, 明确工作重点, 再提交全国人大审议通过, 体现了国务院在党的领导下, 通过法定程序履行了政府职能, 坚持依法决策。(3 分)

③全国人大是最高权力机关, 依法行使决定权, 赋予了“十三五”规划纲要以法律效力, 使党的意志上升为国家意志。(3 分)

④“十三五”规划编制的整个过程, 体现了党的领导、人民当家作主和依法治国的统一。(1 分)

38. (10 分) 运用矛盾同一性的相关知识, 说明国家治理体系和治理能力之间的关系。

【答案】矛盾双方相互依赖、相互作用, (2 分) 一方的存在以另一方的存在为前提, (2 分) 双方共处于一个统一体中。(2 分) 国家治理体系和治理能力是一个有机统一体, (2 分) 相辅相成, 有了好的国家治理体系才能提高治理能力, 提高国家治理能力才能充分发挥国家治理体系的效能。(2 分)