

# 2018—2019 学年上学期夏津一中 高二政治 期中模块检测

一. 选择题: (只有一个最佳答案, 每小题 2 分 共 60 分)

1. 2018 年国产影片《西虹市首富》狂揽票房, 带红了电影插曲《卡路里》, 影迷们下载《卡路里》作为手机铃音, 必须缴纳一定的下载费用。这里下载的《卡路里》

- A. 是商品, 因为它满足了歌迷欣赏歌曲的要求
- B. 不是商品, 因为它尽管是劳动产品, 但没有用于交换
- C. 是商品, 因为它既是劳动产品, 又用于交换
- D. 不是商品, 因为它尽管有使用价值, 但没有价值

2. 随着社会经济的发展, 我国居民收入也在增加。2018 年 8 月, 小张的工资从 5000 元涨到了 6000 元, 其中 2000 元用于付房租, 1500 元用于购买一款原价为 2500 元的手机。在这里 6000 元、2000 元、1500 元、2500 元分别体现了货币的

- A. 支付手段、流通手段、支付手段、价值尺度
- B. 支付手段、支付手段、流通手段、价值尺度
- C. 贮藏手段、流通手段、流通手段、价值尺度
- D. 流通手段、价值尺度、支付手段、流通手段

3. 中国人民银行定于 2018 年 9 月 3 日发行中国高铁普通纪念币, 高铁纪念币面额 10 元, 材质为双金属铜合金, 发行数量为 2 亿枚。对高铁纪念币认识正确的是

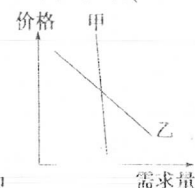
- A. 不可直接用于购买商品
- B. 只对资信状况良好的客户发售
- C. 本质上是一般等价物
- D. 只是收藏品, 可以持续升值

4. 2018 年 10 月 10 日, 银行间外汇市场人民币汇率中间价为 1 美元对人民币 6.9072 元, 1 欧元对人民币 7.9400 元, 而 2018 年 5 月 10 日, 人民币汇率中间价为 1 美元对人民币 6.3768 元, 1 欧元对人民币 7.5557 元。不考虑其他因素, 下列表述正确的是

- ①美元对人民币汇率上升, 美元升值, 中国留学美国的人数可能减少
- ②美元对人民币汇率下降, 美元贬值, 中国企业对美国投资可能减少
- ③欧元对人民币汇率上升, 欧元升值, 出口欧洲商品的数量可能增多
- ④欧元对人民币汇率下降, 欧元贬值, 进口欧洲商品的数量可能增多

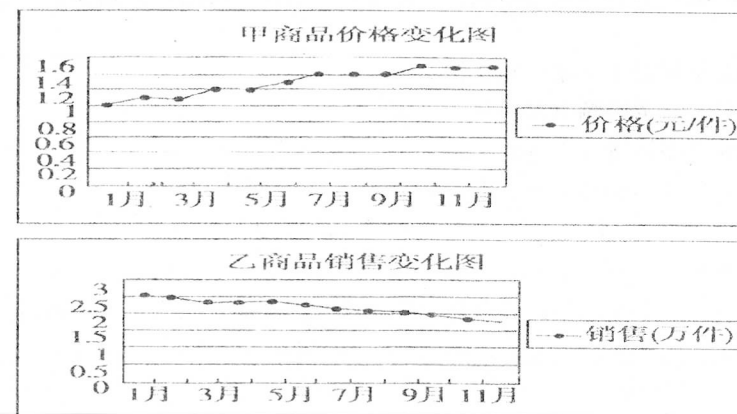
- A. ①②
- B. ②③
- C. ①③
- D. ②④

5. 根据右图反映出的价格与需求的关系, 可以推断( )



- A. 甲是高档耐用品, 乙是生活必需品
- B. 甲和乙是有互补关系的商品
- C. 甲是生活必需品, 乙是高档耐用品
- D. 甲的价格由价值决定, 乙的价格由供求关系决定

6. (经典题) 下图为某商场同一时期甲、乙两种相关商品的有关情况变化图, 根据你的比较和分析, 下列最可能出现的情况是( )



- A. 乙商品是甲商品的替代品
  - B. 乙商品是生活必需品
  - C. 乙商品是甲商品的互补品
  - D. 乙商品市场是卖方市场
7. 2018 年中秋、国庆长假, 高速免收通行费, 使得旅游景区宾馆、餐饮因人员剧增而价格大涨。这反映了( )
- A. 竞争使价格总是上涨
  - B. 价格受供求影响而波动
  - C. 价格上涨主要是由国家决定的
  - D. 景点商品价值量大

8. 根据马克思的劳动价值理论, 如果生产某种商品的社会劳动生产率提高, 在其他条件不变的情况下, 与生产该商品相关的判断如表 1 所示。

表 1

序号	社会必要劳动时间	单位商品价值量	商品数量	商品价值总量
①	缩短	降低	增加	不变
②	缩短	降低	增加	增加
③	不变	增加	降低	不变
④	不变	降低	增加	增加

其中正确的是

- A. ①
- B. ②
- C. ③
- D. ④

9. 据济南市商务局市场运行监测结果显示, 2018 年 7 月 16 日至 7 月 22 日济南市蔬菜价格涨幅较为明显。7 月 25 日, 大河报·大河客户端记者走访时获悉, 商贩和市民均表示最近菜价确实涨了不少, 其中, 西红柿、黄瓜、茼蒿、香菜涨得比较明显。批发市场和零售市场的商贩均表示, 这主要是受天气和产量的影响。一些蔬菜产自外地, 受当地雨水影响, 产量有所减少。由此推断正确的是

- A. 供过于求, 导致蔬菜价格下降
- B. 成本下降, 决定蔬菜价格下降
- C. 供不应求, 导致蔬菜价格上升
- D. 效率下降, 决定蔬菜价格上升

10. 2018年十一期间,小明和朋友相约乘坐动车到厦门旅游。小明发现,动车和高铁因为舒适、快捷非常受欢迎,节假日出行时往往一票难求,而同一线路的公路运输余票较多。从中我们认识到

- ①公路运输票价远高于铁路运输票价
- ②产品的质量和服 务影响供求关系
- ③公路运输和铁路运输互为替代关系
- ④公路运输和铁路运输是互补关系

A. ①③                      B. ②③                      C. ②④                      D. ①④

11. 苹果 iPhone X 手机配备双面全玻璃设计、抗术防尘、无线充电、人脸识别技术等功能,售价近万元。网络调查显示,消费者充满心理矛盾:因性能好想入手,又因贵而深感无奈。下列表述正确的是

- ①优质优价——使用价值越大的商品,消耗的社会必要劳动时间越长,价格就越高
- ②高档耐用品的需求弹性大——商品价格影响其需求
- ③量入为出——收入是消费的前提和基础
- ④攀比心理引发流行趋势——消费心理影响消费行为

A. ①②                      B. ②③                      C. ①③                      D. ③④

12. 2018年3月12日,在萧山的传芳左线特大桥,随着最后一道耀眼的钢花闪烁,杭黄铁路铺轨作业落下帷幕,标志着杭黄铁路全线铺轨贯通。杭黄铁路建成后,杭州到黄山最快只要1.5小时。而原来如果要从杭州到黄山,如果是火车,用时7小时左右;专线高速大巴车,大约需要5小时。高铁以其舒适宽敞的座位,较大的空间,干净的厕所以及较快的速度满足越来越多游客的需求。这表明

- ①消费拉动经济增长                      ②生产决定消费的方式
- ③消费是生产的最终目的                      ④生产决定消费的质量和水平

A. ①②                      B. ①③                      C. ②④                      D. ③④

13. 2018年,华为成立30多年,华为2017年销售收入突破6000亿元,同比增长15%,销量稳居第一。华为手机以其清新的屏幕,超强的PC级处理器,精细的做工,强大的拍照技术等优点吸引来大批消费者。消费者对华为手机的青睐,也推动着它的不断升级。这说明

- ①消费是实现社会再生产顺利进行的桥梁和纽带
- ②新的消费需求对产品的升级换代起着导向作用
- ③生产决定消费的方式
- ④生产决定消费的质量和水平并为消费创造动力

A. ①②                      B. ①③                      C. ②④                      D. ③④

14. 约上几个好友去爬山、携家带口采草莓……趁着双休日走出户外进行休闲活动,逐渐成为了当下最火爆的周末休闲方式,这样的休闲方式也催生了周末休闲经济,让更多的人看到了商机,各地也纷纷推出了各具特色的活动来吸引游客。这表明

- A. 生产决定消费的质量和水平
- B. 消费需求对生产具有导向作用
- C. 生产决定消费的对象和方式
- D. 消费是生产的直接目的和动力

15. 混合所有制改革是国企改革的重要突破口。在这个突破口上,中国联通作为先锋队引入实力雄厚的战略投资者百度、阿里巴巴、腾讯、京东等,与战略投资者充分发挥各自的优势特点,快速完成其在新兴战略领域的布局 and 核心竞争力的提升。由此可看出,混合所有制改革旨在

- ①着力巩固公有制经济的主导地位                      ②积极发挥不同所有制经济的优势
  - ③逐步实现国有资本退出关键领域                      ④提高国有经济的控制力和影响力
- A. ①②                      B. ①③                      C. ②④                      D. ③④

16 小型和微型企业是提供新增就业岗位的主要渠道,是企业家创业成长的主要平台,是科技创新的重要力量。支持小型微型企业健康发展( )

- ①彻底解决了我国的就业难问题                      ②有利于提高人民生活水平
- ③极大地增强了非公有制经济的主体地位
- ④适合我国现阶段生产力发展不平衡、多层次的状况

A. ①②                      B. ①③                      C. ②④                      D. ③④

17 党的十九大报告指出:我国目前处于社会主义初级阶段,面临着人民群众日益增长的美好生活需要与不平衡不充分的发展之间的矛盾。要从根本上解决这一矛盾,必须( )

- A. 坚持公有制                      B. 大力发展生产力
- C. 提倡积极消费                      D. 提高人们的文化素质

18. 李克强总理指出:“依法平等保护各种所有制经济产权,严肃查处侵犯非公有制企业 & 非公有制经济人士合法权益的行为,营造公平、公正、透明、稳定的法治环境,促进各类企业各展其长、共同发展。”政府这样做的经济学依据是( )

- ①非公有制经济已成为国民经济的主体                      ②我国各种所有制经济地位平等、相互促进
- ③消除各种隐性壁垒,为各类企业发展创造良好环境
- ④各种所有制经济都是社会主义市场经济的重要组成部分。

A. ①②                      B. ②③                      C. ③④                      D. ①④

19. 就业是民生之本。国家采取各种措施扩大就业,给社会经济发展带来重大影响。下列选项中,你认为合理的顺序是( )

- ①获得工资收入    ②刺激居民消费    ③扩大生产规模    ④增加就业岗位
- A. ①→②→③→④    B. ②→③→④→①  
C. ④→①→②→③    D. ④→③→①→②

20. 毕业季已过,社会上仍有一些“毕剩客”(尚未落实就业单位的大学毕业生)。他们并非无业可就,而是挑肥拣瘦,主动放弃就业机会,这样的情况被称为“选择性失业”。下列措施有利于缓解这一问题的是( )

- A. 政府实施积极的就业政策
- B. 加强劳动者职业技能培训
- C. 签订劳动合同,维护劳动者合法权益
- D. 劳动者要树立正确的就业观念

21. 假定债券市场上同时发行的一年期债券的利率有2.25%、2.5%和3.0%三档。一般来讲,与此三档利率水平相对应的债券的发行主体分别是( )

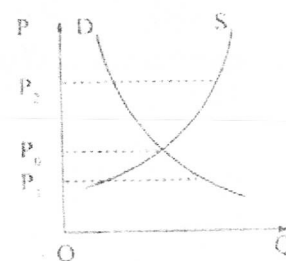
- A. 政府    银行    企业                      B. 银行    政府    企业
- C. 政府    企业    银行                      D. 企业    银行    政府

22. 某位国有独资企业技术骨干的年收入由工资、奖金、股票投资收入等构成。下列说法正确的是 ( )

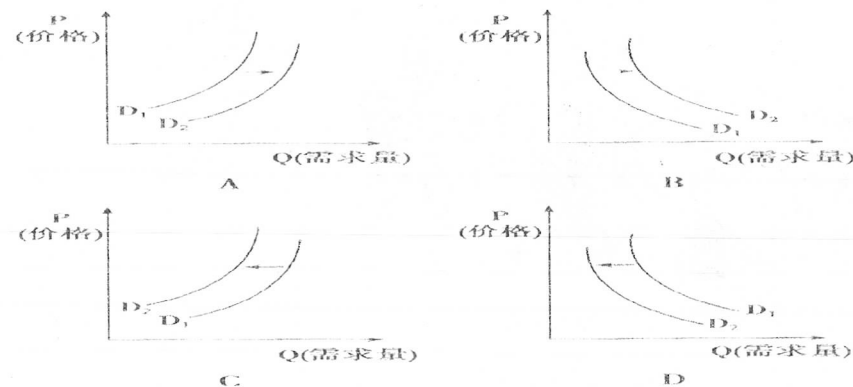
- A. 工资、奖金、股票投资收入都属于按生产要素分配
- B. 工资、奖金、股票投资收入都属于按劳分配
- C. 工资属于按劳分配, 奖金、股票投资收入属于按生产要素分配
- D. 工资、奖金属于按劳分配, 股票投资收入属于按生产要素分配

23. 右图中  $OP$  表示价格,  $QQ$  表示供给量和需求量,  $D$  是某商品需求曲线,  $S$  是某商品供给曲线。据图可以推断

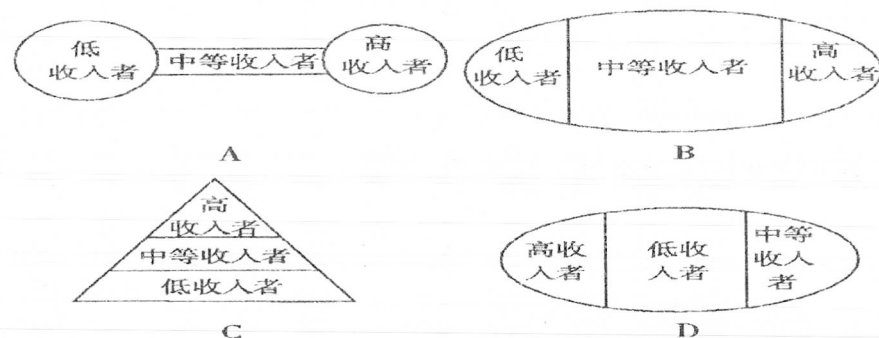
- ①当某商品价格处于  $P_2$  时, 供过于求, 处于买方市场
  - ②当某商品价格处于  $P_2$  时, 供不应求, 供给者应增加供应
  - ③当某商品价格处于  $P_1$  时, 供过于求, 需求者可以压低价格
  - ④当某商品价格处于  $P_1$  时, 供不应求, 供给者可以提高价格
- A. ①②      B. ②④      C. ①④      D. ③④



24. (经典题) 汽油和汽车是必须组合在一起才能满足人们行车需求的商品。汽油价格的变动不仅会引起汽油需求量的变动, 还会影响消费者对汽车的需求。假定其他条件不变, 下列能够反映油价上涨对汽车需求量影响的是 ( )



25. 下列图示中既有利于保持经济平稳较快发展, 又有利于扩大内需的居民收入结构是 ( )



26. 中国古代书法不断赋予各种字体独特的审美意蕴, 篆书的庄重古朴、隶书的典雅高贵、楷书的端庄秀丽、行书的洒脱随意、草书的落拓不羁, 虽然只是线条的描摹, 却为我们描绘了一个五彩缤纷的艺术世界。与书法同源的中国画, 同样表现出它的独特性, 所谓梅兰竹菊的气节、松石的高风, 正是艺术人生的写照。这说明

- ①汉字是中华文明的重要标志
- ②书法、绘画艺术是中华文化一脉相传的重要见证
- ③书法艺术和绘画艺术是中华文化特有的
- ④多姿多彩的中华文化展示了中华民族的生命力和创造力

- A. ①②      B. ②③      C. ①④      D. ③④

27. 提起端午节, 人们就会想起吃粽子、赛龙舟、祭屈原等习俗, 其历史可追溯到 2000 多年前我国远古的祭龙日。当时, 人们把五月视为恶月, 希冀以龙的威慑力驱除灾疫邪祟。此后, 端午节就以祛除病疫、躲避兵鬼、驱邪禳灾的形式传承。由此可见

- ①民族节日是一国历史文化成就的重要标志
- ②民族节日是一个民族历史文化的长期积淀
- ③中华文化内容丰富, 各民族文化异彩纷呈
- ④中华文化源远流长, 传统习俗有持久影响

- A. ①③      B. ①④      C. ②③      D. ②④

28. 2018 都江堰水利工程入选“世界灌溉工程遗产”名录证书。两千多年来, 都江堰工程一直发挥着防洪灌溉的作用, 使水旱无常的成都平原成为沃野千里的“天府之国”。由此可见, 都江堰水利工程

- ①体现了我国古代科学技术注重实际运用
- ②折射出我国古代追求人与自然和谐共存
- ③作为自然遗产受到我国政府重视和保护
- ④彰显了我国科学技术一直处于世界前列

- A. ①④      B. ②④      C. ①②      D. ①③

29. 汉语博大精深。几千年来, 勤劳智慧的中国人民在生产 and 生活实践中创造了许许多多的成语或俗语, 以此来表达内心深处的思想和情感。下列成语或俗语体现文化对人影响的特点恰当的是

- ①耳濡目染——潜移默化的特点
- ②孟母三迁——深远持久的特点
- ③乡音难改——深远持久的特点
- ④一脉相承——潜移默化的特点

- A. ①③      B. ②④      C. ①④      D. ②③

30. 中国围桌而食, 追求的是一种家庭气氛, 体现的是一种情感关怀; 西方分食制、快餐化, 显现一种独立性。中国饮食, 讲究色香味形, 更注重饮食文化; 西方饮食, 讲究营养搭配, 更注重养生。这直接表明

- A. 文化既是民族的又是世界的
- B. 要培育发展好本民族的文化
- C. 世界文化具有多样性和差异性
- D. 文化的差异导致社会实践差异



## 第二卷（共 40 分）

31. 材料：近年来，国内汽车产业规模迅速扩大，再加上劳动力成本较低，以及产能过剩带来的过度竞争，我国汽车特别是轿车的价格将呈不断下降的趋势，每年的下降幅度达两成左右，不排除未来一段时间国内汽车价格还会继续下降。

运用经济生活有关知识，分析说明我国汽车价格不断下降的原因。（6 分）

32. （6 分）2018 年 10 月，中国政府针对老百姓关注的热点问题，提出多项举措，勾画出温暖的民生画卷，让亿万老百姓实实在在看到党和政府保障和改善民生的决心。措施如下：

社会关注问题	政府举措
收入问题	努力实现居民收入增长和经济发展同步、劳动报酬增长和劳动生产率提高同步。
社会保障问题	加快健全覆盖城乡居民的社会保障体系。将新型农村社会养老保险试点覆盖范围扩大到 60%，并同步推进城镇居民社会养老保险试点。
分配不公问题	尽快扭转收入分配差距扩大趋势，重点采取三方面措施：一是着力提高城乡低收入群众的基本收入。二是加大收入分配调节力度。三是大力整顿和规范收入分配秩序。

运用经济生活中“影响消费水平的主要因素”的相关知识，阐明政府保障和改善民生举措的依据。

33. 阅读材料，完成下列要求。

近年来，随着城镇居民生活水平的不断提升和生活观念的逐步转变，防病的意识普遍增强。越来越多的居民由被动就医转变为主动预防，并进行健康投资，各类医疗保健器材和滋补保健品进入普通居民家庭，医疗保健消费持续快速增长。为推动健康产业的发展，中共中央、国务院印发了《“健康中国 2030”规划纲要》，要求优化健康服务，完善健康保障，建设健康环境，发展健康产业，保障人民健康，大幅提高健康水平，显著改善健康公平。

结合材料，运用生产与消费的相关知识，分析健康消费对经济发展的影响。（9 分）

34. （8 分）当“例外”身随“第一夫人”彭丽媛频频亮相世界各地，几乎一夜之间，“例外”成了中国妇孺皆知的服装品牌。“例外”品牌首先定位好非常精准的高端用户人群，然后通过对这些用户的细致入微的服务得到这些用户的认可。自成立以来，“例外”不断学习、吸收国际先进设计技术并结合自身的特点，一直秉持东方本土文化的原创精神，从布料到缝制、染色均贯彻环保理念，反对 Logo 化与过度物质化，注重精神追求的实现。

结合材料，运用“企业的经营”的知识分析“例外”成功的原因。

35. 材料一：我国工资总额占 GDP 的比重

1980 年	1990 年	2000 年	2011 年	2015 年	2018 年
17%	16.1%	12.6%	10.85%	11%	10.98%

注：2018 年部分国家工资总额占 GDP 的比重：美国约 58%，德国约 54%，英国约 55%。

材料二



(1) 材料一和材料二反映了什么经济问题？（3 分）

(2) 谈谈如何解决材料一和材料二中的问题。（8 分）